

N.	DOMANDA	N.	RISPOSTA
GEOGRAFIA			
1	In quale città si trova il Teatro Rossini?		1 Urbino 2 Macerata 3 Pesaro
	X		
2	In quale città si trova il Teatro Ventidio Basso?		1 Fermo 2 Offida 3 Ascoli Piceno
	X		
3	In quale città si trova il Teatro Pergolesi?		1 Jesi 2 Ancona 3 Macerata
	X		
4	Quale paese è conosciuto per il Tartufo		1 Gabicce Mare 2 Acqualagna 3 Senigallia
	X		
5	Quale dei seguenti Comuni è interessato alla produzione del "Verdicchio"?		1 Fano 2 Jesi 3 Macerata
	X		
6	Montappone è conosciuta per la produzione di		1 cappelli 2 scarpe 3 fisarmoniche
	X		
7	Campofilone è conosciuta per la produzione di		1 Vino 2 Olive 3 Maccheroncini
	X		
8	Offida è conosciuta per la produzione di		1 Merletti 2 Motociclette 3 Fisarmoniche
	X		
9	Pesaro è conosciuta per la produzione di		1 Cucine 2 Birra 3 Scarpe
	X		

N.	DOMANDA	N.	RISPOSTA
10	La città di Camerino è	1 2 3	Industriale Universitaria Commerciale
	X	1 2 3	Universitaria Commerciale Industriale
11	La città di Urbino è	1 2 3	Città del Verdicchio Città della Carta Città Ducale
	X	1 2 3	Città termale Città delle palme Città adriatica
13	San Benedetto del Tronto viene anche chiamata	1 2 3	Macerata Pesaro e Urbino Ancona
	X	1 2 3	Ancona e Portonovo Pesaro e Gabicce Monte Pesaro e Fano
15	Il Parco Naturale Regionale del Monte San Bartolo si estende tra le città di	1 2 3	Pesaro Urbino ed Ancona Macerata ed Ascoli Piceno Ancona e Macerata
	X	1 2 3	Monte Sibilla Monte Priore Monte Vettore
17	Qual'è la cima più alta del gruppo dei Monti Sibillini?	1 2 3	Alpi Appennino Aspromonte
	X	1 2 3	In quale provincia si trova il Monte Carpegna?

N.	DOMANDA	N.	RISPOSTA
		1	Ascoli Piceno
		2	Pesaro e Urbino
		3	Macerata
20	In quale provincia si trova il Monte San Vicino?	X	
		1	Ancona
		2	Macerata
		3	Ascoli Piceno
21	In quale provincia si trova il Monte Catria?	X	
		1	Ascoli Piceno
		2	Pesaro e Urbino
		3	Macerata
22	In quale provincia si trova il Monte Vettore?	X	
		1	Ascoli Piceno
		2	Pesaro e Urbino
		3	Macerata
23	In quale provincia si trova il Monte Conero?	X	
		1	Macerata
		2	Ancona
		3	Ascoli Piceno
24	In quale provincia si trova il Monte Nerone?	X	
		1	Ancona
		2	Pesaro e Urbino
		3	Macerata
25	A quale catena dell'Appennino marchigiano appartiene il Monte Cucco?	X	
		1	Catena del Montefeltro
		2	Catena del Catria
		3	Catena dei Sibillini
26	Quale dei seguenti fiumi scorre in territorio marchigiano?	X	
		1	Sesia
		2	Metauro
		3	Topino
27	Il fiume Aso si trova:	X	
		1	A sud della regione Marche
		2	Al centro della Regione Marche
		3	A nord della regione Marche
28	Il fiume Misa si trova nella provincia di		
		1	Macerata

N.	DOMANDA	N.	RISPOSTA
		X	2 Ancona 3 Ascoli Piceno
29	Il fiume Tronto si trova nella provincia di	X	1 Macerata 2 Ascoli Piceno 3 Ancona
30	Il fiume Chienti si trova nella provincia di	X	1 Pesaro e Urbino 2 Macerata 3 Ancona
31	Il fiume Tenna si trova nella provincia di	X	1 Macerata 2 Fermo 3 Ancona
32	Il fiume Potenza si trova nella provincia di	X	1 Ascoli Piceno 2 Macerata 3 Pesaro e Urbino
33	Il fiume Esino si trova nella provincia di	X	1 Macerata 2 Ancona 3 Ascoli Piceno
34	Il fiume Metauro si trova nella provincia di	X	1 Ancona 2 Pesaro e Urbino 3 Macerata
35	Il fiume Marecchia si trova nella provincia di	X	1 Ancona 2 Pesaro e Urbino 3 Ascoli Piceno
36	Da quale lago ha origine il fiume Esino?	X	1 Lago Trasimeno 2 Lago di Fiastra 3 Non ha origine da un lago
37	In quale provincia si trova il Lago di Fiastra?		1 Ancona

N.	DOMANDA	N.	RISPOSTA
		X	2 Macerata 3 Ascoli Piceno
38	In quale provincia si trova il Lago di Polverina?	X	1 Ancona 2 Macerata 3 Ascoli Piceno
39	Il lago di Pilato si trova nelle vicinanze di un noto monte marchigiano. Quale?	X	1 Monte San Vicino 2 Monte Carpegna 3 Monte Vettore
40	In quale città è possibile visitare il gruppo equestre dei bronzi dorati?	X	1 Ascoli Piceno 2 Pergola 3 Recanati
41	In quale città si trova il Palazzo dei Duchi di Montefeltro?	X	1 Ancona 2 Urbino 3 Camerino
42	L'Arco di Augusto di epoca romana si trova nella città di	X	1 Cagli 2 Fano 3 Novafeltria
43	In quale città si trova l'Arena Sferisterio?	X	1 Macerata 2 Tolentino 3 San Severino Marche
44	Al cantante lirico Beniamino Gigli è dedicato un museo nella città di	X	1 Recanati 2 Pesaro 3 Fabriano
45	In quale città si trova il "Museo Archeologico Nazionale delle Marche"?	X	1 Ascoli Piceno 2 Ancona 3 Pesaro
46	In quale città si trova il Museo della carta e della Filigrana?		

N.	DOMANDA	N.	RISPOSTA
		X	1 Fabriano 2 Fermo 3 Ancona
47	In quale città si trova il "Museo Malacologico Piceno"?	X	1 Porto San Giorgio 2 Cupra Marittima 3 Servigliano
48	In quale provincia si trova la Rocca di San Leo?	X	1 Ancona 2 Pesaro e Urbino 3 Ascoli Piceno
49	In quale provincia si trova l'eremo di Carpegna?	X	1 Ancona 2 Pesaro e Urbino 3 Macerata
50	In quale provincia si trova l'eremo di Fonte Avellana?	X	1 Ancona 2 Pesaro e Urbino 3 Macerata
51	Dove si trova la Basilica della Santa Casa?	X	1 Ancona 2 Urbino 3 Loreto
52	In quale comune si trova la chiesa di Santa Maria della Rocca?	X	1 Petritoli 2 Offida 3 Comunanza
53	In quale città si trova la cattedrale di San Ciriaco?	X	1 Ascoli Piceno 2 Ancona 3 Pesaro
54	In quale città si trova l'Ospedale generale provinciale "C. e G. Mazzoni"?	X	1 Macerata 2 Ascoli Piceno 3 Pesaro
55	In quale città si trova lo Stadio "del Conero"?		

N.	DOMANDA	N.	RISPOSTA
		X	<ul style="list-style-type: none"> 1 Ancona 2 Macerata 3 Ascoli Piceno
56	Come si chiama l'Aeroporto di Ancona-Falconara?	X	<ul style="list-style-type: none"> 1 Leonardo da Vinci 2 Raffaello Sanzio 3 Giovan Battista Salvi
57	Sassotetto è una località sciistica della Regione. In quale provincia si trova?	X	<ul style="list-style-type: none"> 1 Ancona 2 Macerata 3 Ascoli Piceno
58	In quale città si tiene il Rossini Opera Festival?	X	<ul style="list-style-type: none"> 1 Macerata 2 Pesaro 3 Fabriano
59	La contesa del "Pozzo della polenta" è una rievocazione storica che si tiene nel Comune di	X	<ul style="list-style-type: none"> 1 Offida 2 Corinaldo 3 Sant'Angelo in Lizzola
60	La "Contesa del secchio" è una rievocazione storica che si tiene nel Comune di	X	<ul style="list-style-type: none"> 1 Montegiorgio 2 Sant'Elpidio a Mare 3 Montecosaro
61	Rispetto alla penisola italica, le Marche occupano una posizione	X	<ul style="list-style-type: none"> 1 Centrale 2 Settentrionale 3 Meridionale
62	Quale mare bagna le coste marchigiane?	X	<ul style="list-style-type: none"> 1 Mare Ionio 2 Mare Tirreno 3 Mare Adriatico
63	Nello stemma della Regione Marche è raffigurato il simbolo	X	<ul style="list-style-type: none"> 1 Il picchio 2 La quercia 3 Il mare

N.	DOMANDA	N.	RISPOSTA
64	Qual'è la superficie totale, in kmq., della Regione Marche?	X 1 2 3	9.694 15.761 17.822
65	Quale lago della Regione è noto per la sua origine glaciale?	X 1 2 3	Lago di Fiastra Lago di Pilato Lago di Polverina
66	Quale di queste regioni non confina con la provincia di Pesaro e Urbino?	X 1 2 3	Toscana Umbria Abruzzo
67	Con quale provincia marchigiana confina la Repubblica di San Marino?	X 1 2 3	Pesaro e Urbino Macerata Ascoli Piceno
68	Quale dei seguenti Comuni non è situato nell'area del "Conero"?	X 1 2 3	Portonovo Sirolo Senigallia
69	Quale dei seguenti Comuni non si trova nella provincia di Pesaro e Urbino?	X 1 2 3	Gabicce Mare Arcevia Urbania
70	Quale dei seguenti Comuni non si trova nella provincia di Ascoli Piceno?	X 1 2 3	Tolentino Offida S.Benedetto del Tronto
71	In quale provincia si trova il Comune di Sarnano?	X 1 2 3	Ancona Pesaro e Urbino Macerata
72	In quale provincia si trova il Comune di Osimo?	X 1 2 3	Ancona Pesaro e Urbino Macerata

N.	DOMANDA	N.	RISPOSTA
73	Quale dei seguenti Comuni non si trova nella provincia di Ancona?		1 Osimo 2 Arcevia 3 Urbania
	X		
74	In quale provincia si trova la valle del Fiume Tronto?		1 Pesaro e Urbino 2 Macerata 3 Ascoli Piceno
	X		
75	Il territorio della Regione Marche è collinare		1 per il 29% 2 per il 69% 3 per l' 89%
	X		
76	Quale fiume costituisce prevalentemente il confine naturale tra le Province di Pesaro-Urbino ed Ancona?		1 Metauro 2 Cesano 3 Esino
	X		
77	A quale dei seguenti passi non si accede dalla provincia di Pesaro e Urbino?		1 Bocca Trabaria 2 Bocca Serriola 3 Pian di Colfiorito
	X		
78	In quale Comune si trovano le Grotte di Frasassi?		1 Fabriano 2 Genga 3 Jesi
	X		
79	Una delle seguenti Regioni non confina con le Marche. Quale?		1 Lazio 2 Abruzzo 3 Molise
	X		
80	Quale dei seguenti Comuni non è situato nell'area della "Riviera delle Palme"?		1 Porto Sant'Elpidio 2 San Benedetto del Tronto 3 Cupra Marittima
	X		
81	Il Monte Catria è alto		1 2701 metri sul livello del mare 2 1270 metri sul livello del mare 3 1701 metri sul livello del mare
	X		

N.	DOMANDA	N.	RISPOSTA
82	Il Monte Vettore è alto	X	1 2476 metri sul livello del mare 2 3511 metri sul livello del mare 3 1944 metri sul livello del mare
83	Qual'è il porto più importante della regione Marche?	X	1 S.Benedetto del Tronto 2 Ancona 3 Fano
84	Quale dei passi appenninici separa la Provincia di Pesaro e Urbino dall'Umbria?	X	1 Tonale 2 Colfiorito 3 Scheggia
85	Quale dei passi appenninici separa la Provincia di Pesaro e Urbino dalla Toscana?	X	1 Bocca Serriola 2 Bocca Trabaria Scheggia 3
86	Il passo di Scheggia collega le Marche con	X	1 l'Umbria 2 la Toscana 3 L'Emilia
87	Il passo di Bocca Trabaria collega le Marche con	X	1 l'Umbria 2 la Toscana 3 l'Emilia
88	Quale tipico andamento hanno i fiumi marchigiani?	X	1 Nord - Sud 2 NordOvest - SudEst 3 SudOvest - NordEst
89	Uno dei tre fiumi indicati non scorre in territorio marchigiano. Quale?	X	1 Potenza 2 Ticino 3 Esino
90	Quale, dei tre territori indicati, confina con le Marche ad occidente?	X	1 Emilia Romagna 2 Toscana

N.	DOMANDA	N.	RISPOSTA
100	In quale provincia si trova la Gola del Furlo?	X	1 Pesaro e Urbino 2 Macerata 3 Ascoli Piceno
101	La gola dell'Infernaccio si trova in un noto gruppo montuoso marchigiano. Quale?	X	1 Catena dei Sibillini 2 Catena del Montefeltro 3 Catena del San Vicino
TOPONOMASTICA			
102	Che distanza c'è tra Montegiorgio e Porto San Giorgio?	X	1 km. 15 2 km. 55 3 km. 30
103	Quanti chilometri intercorrono fra Ancona e Ascoli Piceno?	X	1 km. 125 2 km. 150 3 km. 140
104	Che distanza c'è fra Ascoli Piceno e San Benedetto del Tronto?	X	1 km. 32 2 km. 78 3 km. 46
105	Che distanza c'è fra Ancona e Porto d'Ascoli?	X	1 km. 100 2 km. 80 3 km. 90
106	Che distanza c'è fra Ascoli Piceno e Amandola?	X	1 km. 90 2 km. 43 3 km. 80
107	Che distanza c'è fra Ascoli Piceno e Fermo?	X	1 km. 65 2 km. 85 3 km. 20
108	Che distanza c'è fra Ascoli Piceno e Porto San Giorgio?		1 km. 95

N.	DOMANDA	N.	RISPOSTA
		X	2 km. 59
			3 km. 80
109	Che distanza c'è fra Macerata e Sarnano?		1 km. 80
		X	2 km. 39
			3 km. 59
110	Che distanza c'è fra Macerata e San Severino?		1 km. 30
		X	2 km. 10
			3 km. 40
111	Che distanza c'è fra Macerata e Porto Civitanova?		1 km. 15
		X	2 km. 25
			3 km. 45
112	Che distanza c'è fra Macerata e Porto Recanati?		1 km. 20
		X	2 km. 30
			3 km. 40
113	Che distanza c'è fra Ancona e Jesi?		1 km. 40
		X	2 km. 30
			3 km. 50
114	Che distanza c'è fra Ancona e Arcevia?		1 km. 100
		X	2 km. 64
			3 km. 80
115	Che distanza c'è fra Ancona e Senigallia?		1 km. 30
		X	2 km. 50
			3 km. 40
116	Che distanza c'è fra Ancona e Castelfidardo?		1 km. 10
		X	2 km. 23
			3 km. 35
117	Che distanza c'è fra Ancona e Loreto?		1 km. 40
		X	2 km. 28
			3 km. 37

N.	DOMANDA	N.	RISPOSTA
118	Che distanza c'è fra Ancona e l'Aeroporto di Ancona-Falconara?	X	1 km. 17 2 km. 27 3 km. 25
119	Che distanza c'è fra Pesaro e Fano?	X	1 km. 20 2 km. 12 3 km. 25
120	Che distanza c'è fra Pesaro e Pergola?	X	1 km. 64 2 km. 84 3 km. 70
121	Che distanza c'è fra Pesaro e Gradara?	X	1 km. 15 2 km. 25 3 km. 30
122	Che distanza c'è fra Pesaro e San Benedetto del Tronto?	X	1 km. 105 2 km. 150 3 km. 180
123	Che distanza c'è fra Pesaro e Urbino?	X	1 km. 52 2 km. 36 3 km. 63
124	Che distanza c'è tra Pergola e Fano?	X	1 km. 51 2 km. 74 3 km. 28
125	Quanti chilometri intercorrono tra Urbino e Fano?	X	1 km. 58 2 km. 44 3 km. 31
126	Che distanza c'è fra Macerata e Jesi?	X	1 km. 37 2 km. 84 3 km. 70
127	Quanti chilometri intercorrono fra Ancona e Macerata?	X	1 km. 55 2 km. 50 3 km. 60

N.	DOMANDA	N.	RISPOSTA
128	Quanti chilometri intercorrono tra Pesaro e Cagli?	<p data-bbox="842 264 986 295">1 km. 62</p> <p data-bbox="842 300 986 331">2 km. 86</p> <p data-bbox="842 336 986 367">3 km. 45</p>	<p data-bbox="724 300 746 331">X</p>
129	Che distanza c'è tra Ancona e Fabriano?	<p data-bbox="842 439 986 470">1 km. 74</p> <p data-bbox="842 474 986 506">2 km. 45</p> <p data-bbox="842 510 986 542">3 km. 31</p>	<p data-bbox="724 439 746 470">X</p>
130	Che distanza c'è tra Ancona e Pesaro?	<p data-bbox="842 609 986 640">1 km. 61</p> <p data-bbox="842 645 986 676">2 km. 120</p> <p data-bbox="842 680 986 712">3 km. 35</p>	<p data-bbox="724 609 746 640">X</p>
131	Che distanza c'è tra Civitanova Marche e S. Benedetto del Tronto?	<p data-bbox="842 819 986 851">1 km. 60</p> <p data-bbox="842 855 986 887">2 km. 22</p> <p data-bbox="842 891 986 922">3 km. 43</p>	<p data-bbox="724 891 746 922">X</p>
132	Che distanza c'è tra San Leo e Pesaro?	<p data-bbox="842 985 986 1016">1 km. 65</p> <p data-bbox="842 1021 986 1052">2 km. 50</p> <p data-bbox="842 1057 986 1088">3 km. 45</p>	<p data-bbox="724 985 746 1016">X</p>
133	Che distanza c'è fra Amandola e Fermo?	<p data-bbox="842 1155 986 1187">1 km. 35</p> <p data-bbox="842 1191 986 1223">2 km. 70</p> <p data-bbox="842 1227 986 1258">3 km. 50</p>	<p data-bbox="724 1227 746 1258">X</p>
134	Per andare da Ancona a Macerata quale strada percorri?	<p data-bbox="842 1370 1401 1402">1 Ancona-Porto Civitanova-Macerata</p> <p data-bbox="842 1406 1225 1438">2 Ancona-Osimo-Macerata</p> <p data-bbox="842 1442 1273 1473">3 Ancona-Recanati-Macerata</p>	<p data-bbox="724 1406 746 1438">X</p>
135	Per andare da Ancona a Pesaro qual'è il percorso più breve?	<p data-bbox="842 1576 1129 1608">1 La Statale n.16</p> <p data-bbox="842 1612 1161 1644">2 L'Autostrada A/14</p> <p data-bbox="842 1648 1129 1680">3 La Statale n.76</p>	<p data-bbox="724 1576 746 1608">X</p>
136	Quali delle seguenti città non è attraversata dalla strada Salaria?	<p data-bbox="842 1792 1145 1823">1 Acquasanta Terme</p> <p data-bbox="842 1827 1225 1859">2 Montalto delle Marche</p> <p data-bbox="842 1863 1098 1895">3 Ascoli Piceno</p>	<p data-bbox="724 1827 746 1859">X</p>
137	Quali delle seguenti città non è attraversata dalla strada Flaminia?	<p data-bbox="842 1998 954 2029">1 Fano</p> <p data-bbox="842 2033 1066 2065">2 Fossombrone</p>	

N.	DOMANDA	N.	RISPOSTA
		X	3 Urbania
138	Come si chiama la strada che collega Ascoli Piceno a San Benedetto del Tronto?	X	1 Faleriense n.210 2 Ascoli-Mare n.4 3 Corinaldese
139	Come si chiama la strada che collega Pesaro a Urbino?	X	1 Flaminia 2 Urbinata n.423 3 Salaria
140	Come si chiama la strada che collega Osimo a Macerata?	X	1 Strada Provinciale n.76 2 Settempedana 3 Recina n.77
141	Quale strada collega Ancona a Fabriano?	X	1 Arceviense 2 Strada Provinciale n.76 3 Statale Adriatica n.16
142	La Statale Adriatica n.16 collega	X	1 Pesaro-Ancona 2 Ancona-Fabriano 3 Osimo-Macerata
143	Come si chiama la strada che collega Porto Sant'Elpidio a Servigliano?	X	1 Faleriense 2 Mezzina 3 Pompeiana
144	Quale strada collega Marotta a Pergola?	X	1 Strada Provinciale n.76 2 Strada Provinciale n.424 3 Flaminia
145	Quale strada collega Porto Civitanova a Macerata?	X	1 Statale Adriatica n.16 2 Strada Provinciale n.485 3 Salaria
146	Come si chiama la strada che collega Porto Recanati a Macerata?	X	1 Settempedana 2 Recina n.77 3 Statale Adriatica n.16

N.	DOMANDA	N.	RISPOSTA
147	Come si chiama la strada che collega Fano a Fossombrone?		
		X	1 Salaria 2 Flaminia 3 Settempedana

NORME COMPORTAMENTALI

148	Quali sono i documenti obbligatori per poter sostenere gli esami di abilitazione professionale?		
		X	1 Patente cat. D 2 Patente cat. B e CAP 3 Patente cat. CAP
149	Il possessore di KB:		
		X	1 Può esercitare il servizio N.C.C. anche con motocarrozette purchè titolare di patente "A" 2 Può esercitare il servizio N.C.C. solo con autovetture 3 Può esercitare solo il servizio pubblico da piazza (taxi) con autovetture
150	Per il servizio pubblico da piazza con veicoli a trazione animale:		
		X	1 E' obbligatorio il KB 2 E' obbligatorio il KA 3 Non è obbligatorio alcun certificato di abilitazione professionale (cap)
151	E' possibile per un tempo definito o per un viaggio determinato sostituire il titolare di licenza o di autorizzazione?		
		X	1 Sì, è sufficiente il possesso del KB. 2 No, mai. 3 Sì, purché la persona sia iscritta al ruolo.
152	In caso di intemperanze da parte di un cliente quale deve essere il comportamento del tassista?		
		X	1 Disinteresse 2 Chiamare le forze dell'ordine 3 Reagire personalmente

N.	DOMANDA	N.	RISPOSTA
153	Quale ente decide dove far sostare i taxi?	<p data-bbox="842 264 1034 295">1 Provincia</p> <p data-bbox="842 300 1002 331">2 Regione</p> <p data-bbox="842 336 986 367">3 Comune</p>	<p data-bbox="724 336 746 367">X</p>
154	Come vengono applicate le tariffe per il servizio urbano?	<p data-bbox="842 474 1177 506">1 A tariffa multipla</p> <p data-bbox="842 510 1241 542">2 A tariffa chilometrica</p> <p data-bbox="842 546 1241 577">3 A secondo del percorso</p>	<p data-bbox="724 474 746 506">X</p>
155	L'uso delle corsie preferenziali:	<p data-bbox="842 649 1098 680">1 E' consentito</p> <p data-bbox="842 685 1145 716">2 Non è consentito</p> <p data-bbox="842 721 1485 784">3 E' consentito solo quando ci si accinge a particolari manovre</p>	<p data-bbox="724 649 746 680">X</p>
156	Il tassista può rifiutare una corsa urbana?	<p data-bbox="842 891 922 922">1 Si</p> <p data-bbox="842 927 922 958">2 No</p> <p data-bbox="842 963 1066 994">3 Facoltativo</p>	<p data-bbox="724 927 746 958">X</p>
157	Nei comuni di minori dimensioni, le autovetture adibite a taxi possono essere esonerate dall'obbligo del tassmetro?	<p data-bbox="842 1169 922 1200">1 Si</p> <p data-bbox="842 1205 922 1236">2 No</p> <p data-bbox="842 1254 1469 1285">3 Solo se autorizzati dalla Prefettura</p>	<p data-bbox="724 1169 746 1200">X</p>
158	Cosa prevede la legge in materia di dispositivi atti a ridurre i carichi inquinanti?	<p data-bbox="842 1456 1485 1509">1 I veicoli debbono essere muniti di marmitta catalitica</p> <p data-bbox="842 1523 1485 1576">2 I veicoli non debbono essere muniti di marmitta catalitica</p> <p data-bbox="842 1590 1485 1644">3 E' facoltativo munire i veicoli di marmitta catalitica</p>	<p data-bbox="724 1464 746 1496">X</p>
159	Al titolare che abbia trasferito la licenza, può esserne attribuita un'altra?	<p data-bbox="842 1796 1034 1827">1 Si sempre</p> <p data-bbox="842 1841 1469 1895">2 Si purchè siano trascorsi 5 anni dal trasferimento della prima</p> <p data-bbox="842 1908 986 1939">3 No mai</p>	<p data-bbox="724 1850 746 1881">X</p>
160	L'IVA riscossa senza emettere fattura può essere trattenuta dal tassista?	<p data-bbox="842 2038 922 2069">1 Sì</p>	

N.	DOMANDA	N.	RISPOSTA
		X	2 No 3 Solo per i non residenti
161	Quando sia intervenuta condanna con sentenza passata in giudicato, per delitti non colposi a pena restrittiva della libertà personale per una pena superiore a 2 anni, in capo al titolare della licenza o dell'autorizzazione, il Comune procede a	X	1 Revocare la licenza o l'autorizzazione 2 Diffida 3 Sospendere la licenza o l'autorizzazione
162	In merito allo svolgimento del servizio urbano in presenza di neve o ghiaccio:	X	1 Il tassista deve espletare il servizio 2 Il tassista non deve espletare il servizio 3 E' facoltativo per il tassista espletare il servizio
163	Mutare l'indirizzo della rimessa e della sede, nell'ambito del territorio comunale, senza dare prescritta comunicazione al Sindaco è motivo di..	X	1 Decadenza della licenza o dell'autorizzazione 2 Diffida 3 Revoca della licenza o dell'autorizzazione.
164	Il tassista può rifiutare una corsa extraurbana?	X	1 Si 2 No 3 Solo se supera i 50 Km di distanza
165	Chi dispone annualmente le verifiche sulla idoneità dei mezzi in servizio di taxi e n.c.c.?	X	1 L'Amministrazione Comunale 2 L'Amministrazione Provinciale 3 Gli organi della Motorizzazione
166	Qual è l'autorizzazione che permette di esercitare l'attività di tassista?	X	1 Licenza di Questura 2 Licenza Motorizzazione Civile 3 Comune

N.	DOMANDA	N.	RISPOSTA
167	L'utilizzo, per il servizio, di veicoli diversi da quelli autorizzati è motivo di	1 2 3	<p>1 Revoca della licenza o dell'autorizzazione.</p> <p>2 Sospensione della licenza o dell'autorizzazione.</p> <p>3 Decadenza di licenza o dell'autorizzazione</p>
	X		
168	L'aver esercitato servizio di taxi in qualità di sostituto alla guida del titolare della licenza per un periodo di tempo complessivo di almeno 6 mesi, costituisce titolo preferenziale ai fini del rilascio della licenza per l'esercizio di taxi?	1 2 3	<p>1 Sì</p> <p>2 No</p> <p>3 Sì, ma sono necessari 12 mesi di sostituzione alla guida del titolare.</p>
	X		
169	Relativamente al carico dei passeggeri:	1 2 3	<p>Il tassista può trasportare un numero di persone compreso nel</p> <p>1 limite massimo dei posti consentito dalle caratteristiche dell'autoveicolo</p> <p>Il tassista può trasportare un numero di persone superiore al</p> <p>2 limite massimo dei posti consentito dalle caratteristiche dell'autoveicolo</p> <p>Il tassista può trasportare un numero di persone superiore al</p> <p>3 limite massimo dei posti consentito dalle caratteristiche dell'autoveicolo solo per tragitti di breve percorrenza</p>
	X		
170	Dove avviene lo stazionamento dei taxi?	1 2 3	<p>1 Luogo privato (garage)</p> <p>2 Luogo pubblico</p> <p>3 Spazi di sosta riservati</p>
	X		
171	In merito all'esposizione della tariffa:	1 2	<p>1 Il tassista non è tenuto ad esporre la tariffa</p> <p>2 Il tassista è tenuto ad esporre la tariffa</p>
	X		

N.	DOMANDA	N.	RISPOSTA
		3	E' facoltativo per il tassista esporre la tariffa
172	La licenza comunale di esercizio può essere trasferita, senza l'assenso dell'autorità comunale, ad altra persona iscritta nel ruolo ed in possesso dei requisiti prescritti?	X	1 Si 2 No 3 In caso di morte del titolare
173	Relativamente al tragitto:	X	1 Non spetta al tassista l'iniziativa in merito alla scelta del tragitto E' facoltativo per il tassista 2 assumere l'iniziativa in merito alla scelta del tragitto 3 Spetta al tassista l'iniziativa in merito alla scelta del tragitto
174	La licenza, durante gli spostamenti, deve trovarsi a bordo del mezzo?	X	1 Si 2 No 3 E' facoltativo
175	Si deve asportare il segnale "taxi fuori servizio"?	X	1 Facoltativo 2 Si 3 No
176	Cosa prescrive la legge in materia di revisione dei veicoli adibiti a taxi?	X	1 Il veicolo deve essere revisionato annualmente 2 Il veicolo non deve essere revisionato annualmente 3 E' facoltativo revisionare annualmente il veicolo
177	Da chi possono essere temporaneamente sostituiti i titolari di licenza per l'esercizio del servizio taxi?	X	1 Da chi in possesso del certificato di abilitazione professionale 2 Da persona iscritta nel ruolo 3 Da chi in possesso di patente "D"
178	Come va conteggiata la prestazione del tassista?	X	1 Cronotachigrafo 2 Tassmetro

N.	DOMANDA	N.	RISPOSTA
----	---------	----	----------

3 In base ai Km.

179 Quando le autovetture adibite al servizio di taxi sono esonerate dall'obbligo del tassametro omologato?

X

- 1 Nei comuni di maggiori dimensioni
- 2 Nei comuni di minori dimensioni
- 3 Nei comuni di medie dimensioni

180

E' consentita la fermata di altri veicoli per la sola salita o discesa di persone, od altre esigenze di brevissima durata, restando il conducente presente e pronto a ripartire, nelle apposite piazzole destinate al servizio taxi?

X

- 1 Si, sempre
- 2 No
- 3 Solo se esiste una specifica indicazione con cartello

181 Ogni quanti anni è obbligatoria la revisione per i taxi?

X

- 1 3
- 2 1
- 3 2

182 Un cliente inglese può pagare il servizio in sterline?

X

- 1 Si
- 2 No
- 3 Solo se il tassista lo permette

183

Il tassista, nell'esercizio del servizio, deve indossare una particolare divisa?

X

- 1 Si
- 2 No, ma è necessario che adotti un abbigliamento decoroso
- 3 No, e può adottare anche un abbigliamento indecoroso

184 Può essere trasferita la licenza per l'esercizio di taxi o di N.C.C.?

X

- 1 Si, purché a persona designata iscritta al ruolo, purché esistano determinate particolarità
- 2 No, mai
- 3 Si, anche a persona non iscritta a ruolo

185 Che cosa debbono obbligatoriamente avere installato a bordo le autovetture adibite al servizio di taxi?

N.	DOMANDA	N.	RISPOSTA
		X	1 Il tassametro omologato 2 Il tassametro 3 L'impianto ricetrasmittente
186	Chi esegue la revisione del veicolo adibito a taxi?	X	1 La Motorizzazione 2 La Prefettura 3 Il Comune
187	I veicoli immatricolati in servizio di taxi o di noleggio con conducente possono essere impiegati per l'espletamento di servizi sussidiari o integrativi dei servizi di linea?	X	1 Sì, previa autorizzazione del Comune. 2 No 3 Sì, anche senza autorizzazione del Comune.
188	E' vietata la sosta per l'autovettura da N.C.C., in posteggio di stanziamento su suolo pubblico nei comuni ove c'è l'esercizio di taxi?	X	1 Sì, ma in caso di necessità vi può sostare 2 No 3 Sì
189	Il tassista ha diritto al rimborso sulle accise dei carburanti?	X	1 No 2 Sì 3 In base ai Km. percorsi
190	Per quali motivi si può revocare la licenza?	X	1 Mancato rispetto dell'orario di servizio 2 Taxi sporco 3 Fallimento
191	Per conseguire l'autorizzazione di noleggio con conducente è obbligatoria la disponibilità di una rimessa per la sosta del veicolo?	X	1 No 2 Sì, è obbligatoria Deve possedere la disponibilità di 3 una rimessa, ma il veicolo può sostare ovunque.

N.	DOMANDA	N.	RISPOSTA
192	Da chi viene rilasciata l'autorizzazione per l'esercizio del servizio di taxi e del servizio di n.c.c.?	X	<ul style="list-style-type: none"> 1 Questura 2 Comune 3 Provincia
193	Da chi è esercitata la funzione di tutela dei tassisti?	X	<ul style="list-style-type: none"> 1 Partiti politici 2 Sindacato lavoratori 3 Associazioni artigiane
194	In caso di avaria della autovettura adibita a taxi, la corsa debba essere sospesa, il passeggero che abbandona il veicolo ha l'obbligo di pagare:	X	<ul style="list-style-type: none"> 1 L'importo segnato dal tassametro 2 Nessun importo in quanto la corsa non è stata completata 3 L'importo spettante per l'intero percorso
195	In caso di concorrenza sleale di un tassista nei confronti dei colleghi a chi va denunciato?	X	<ul style="list-style-type: none"> 1 Al Prefetto 2 Alle forze dell'ordine 3 Al Comune
196	Relativamente all'orario:	X	<ul style="list-style-type: none"> 1 Compete al tassista la scelta libera dell'orario 2 Non compete al tassista la scelta libera dell'orario 3 E' facoltativo per il tassista assumersi la scelta libera dell'orario
197	Il tassista è soggetto ad IVA?	X	<ul style="list-style-type: none"> 1 Sì 2 No 3 Solo se emette fattura
198	L'autorizzazione per il servizio pubblico non di linea viene rilasciata	X	<ul style="list-style-type: none"> 1 In corrispondenza alla sezione del ruolo in cui si è iscritti 2 Per ogni sezione del ruolo 3 Per nessuna sezione del ruolo
199	Relativamente al tragitto:		

N.	DOMANDA	N.	RISPOSTA
		1	Spetta al tassista l'iniziativa di deviare dal cammino più breve per recarsi nel luogo richiesto dal passeggero
		2	E' facoltativo per il tassista assumersi l'iniziativa di deviare dal cammino più breve per recarsi nel luogo richiesto dal passeggero
	X	3	Non spetta al tassista l'iniziativa di deviare dal cammino più breve per recarsi nel luogo richiesto dal passeggero
200	Si può prestare servizio in caso di tassametro guasto?		
		1	Il servizio deve comunque essere espletato
	X	2	Il servizio non deve essere espletato
		3	E' facoltativo espletare il servizio
201	In materia di assicurazione R.C.A.:		
		1	Il tassista non deve pagare l'assicurazione R.C.A.
		2	E' facoltativo pagare l'assicurazione R.C.A.
	X	3	Il tassista deve pagare l'assicurazione R.C.A.
202	L'uso della cintura di sicurezza da parte del conducente di un taxi:		
	X	1	E' sempre obbligatorio
		2	Non è obbligatorio in quanto il taxi è un veicolo in servizio pubblico
		3	E' facoltativo
203	L'uso della cintura di sicurezza da parte dei bambini sui taxi		
		1	E' sempre obbligatorio
	X	2	I bambini di statura minore di 1,50 mt sono esonerati purchè accompagnati da un passeggero avente almeno 16 anni di età
		3	è facoltativo
204	Relativamente allo svolgimento di corse extraurbane in presenza di nebbia:		
	X	1	E' facoltativo per il tassista effettuare la corsa
		2	Il tassista non deve effettuare la corsa

N.	DOMANDA	N.	RISPOSTA
		3	Il tassista è tenuto ad effettuare la corsa
205	Le prestazioni di servizio al di sotto dei 50 Km dove vanno obbligatoriamente registrate?	X	1 Registro corrispettivi 2 Libro giornale 3 Lettera di vettura
206	In estate il tassista può guidare con gli zoccoli?	X	1 Sì 2 No 3 solo in alcune circostanze
207	Per l'esercizio del servizio di taxi e n.c.c. l'iscrizione al ruolo è obbligatoria?	X	1 Sì 2 No 3 Facoltativa
208	Il servizio di piazza per trasporto di persone può essere svolto solamente con autovetture immatricolate ad uso taxi?	X	No, possono utilizzarsi anche autovetture immatricolate per noleggio con conducente, se autorizzate 1 autovetture immatricolate per noleggio con conducente, se autorizzate 2 Sì 3 No, può essere svolto anche con minibus
209	Relativamente al carico di grossi animali:	X	1 Il tassista può rifiutarne il carico 2 Il tassista può esigere il pagamento di una tariffa superiore a quella appositamente prevista dal Comune 3 Il tassista non può rifiutarne il carico
210	Il trasporto di animali vivi sui taxi:	X	1 E' ammesso alle condizioni previste dal regolamento comunale 2 E' facoltativo 3 Non è ammesso

N.	DOMANDA	N.	RISPOSTA
211	Il mancato rispetto delle tariffe da parte dell'esercente il servizio di taxi per abusiva regolazione del tassametro può determinare la revoca della licenza di esercizio?		
		1	Si
		2	No
	X	3	Solo se recidivo
212	Per immatricolare un veicolo in servizio pubblico da piazza (taxi):		
		1	E' sufficiente l'autocertificazione del proprietario attestante l'uso del mezzo
		2	E' necessario essere in possesso di KB (certificato di abilitazione professionale)
	X	3	E' necessaria specifica autorizzazione da parte dell'Ente concedente la licenza di esercizio il quale stabilisce anche la tipologia di veicolo
213	La licenza per l'esercizio del servizio di taxi può essere conseguita da:		
		1	Soggetti in possesso della cittadinanza italiana o in possesso della cittadinanza di un paese straniero facente parte della UE
		2	Chiunque
		3	Soggetti in possesso della cittadinanza di un paese straniero non facente parte della UE
214	Quando si mette in funzione il tassametro?		
		1	Inizio corsa
		2	Metà corsa
	X	3	Fine corsa
215	Con l'iscrizione al ruolo nella sezione "conducenti di autovetture" si può concorrere al rilascio dell'autorizzazione?		
		1	Solo per la sezione conducenti di autovetture
		2	Anche per la sezione conducenti di natanti
	X	3	Per tutte le sezioni in cui è articolato il ruolo
216	Il tassametro è obbligatorio in tutti i comuni?		

N.	DOMANDA	N.	RISPOSTA
	X	1	No
		2	Si
		3	Non indispensabile
217	Dopo quanti anni è trasferibile la licenza?	1	15
		2	10
	X	3	5
218	Chi stabilisce i criteri per la determinazione delle tariffe per il servizio taxi?	1	Provincia
	X	2	Comune
		3	Regione
219	Il rimborso sulle accise dei carburanti a cosa si riferisce?	1	ai km. percorsi
	X	2	sulle giornate lavorative
		3	ai km e le giornate lavorative
220	In materia di imposizione fiscale:	1	Il tassista deve pagare l'IRPEF
	X	2	E' facoltativo pagare l'IRPEF
		3	Il tassista non deve pagare l'IRPEF
221	Ogni quanti anni la licenza è sottoposta al controllo relativo alla permanenza dei requisiti?	1	2
	X	2	1
		3	3
222	L'esistenza di ogni eventuale supplemento tariffario deve essere portato a conoscenza dell'utente mediante avvisi chiaramente leggibili?	1	E' indifferente
	X	2	No
		3	Si
223	Se il cliente vuole pagare con valuta straniera il tassista può pretendere la valuta in euro?	1	Si
	X	2	No
		3	solo in dollari

N.	DOMANDA	N.	RISPOSTA
224	I titolari di licenza per l'esercizio del taxi e di autorizzazione per l'esercizio del servizio di NCC possono avvalersi della collaborazione di familiari nello svolgimento del servizio?	X	<ol style="list-style-type: none"> 1 No 2 Sì, anche se non risultano essere iscritti al ruolo 3 Sì, purché siano iscritti al ruolo.
225	In ordine alla prestazione di servizi richiesti dagli agenti della forza pubblica:	X	<ol style="list-style-type: none"> 1 Il tassista deve effettuare tali prestazioni 2 Il tassista non deve effettuare tali prestazioni 3 E' facoltativo per il tassista effettuare tali prestazioni
226	L'attestato di accertamento dei requisiti di idoneità all'esercizio del trasporto di persone mediante autoservizi pubblici non di linea è rilasciato	X	<ol style="list-style-type: none"> 1 Dal Comune 2 Dalla Provincia 3 Dalla Motorizzazione
227	Relativamente alla scelta del cliente:	X	<ol style="list-style-type: none"> 1 Spetta al tassista l'iniziativa in merito alla scelta del cliente 2 Non spetta al tassista l'iniziativa in merito alla scelta del cliente 3 E' facoltativo per il tassista assumere l'iniziativa in merito alla scelta del cliente
228	E' ammesso in capo ad un medesimo soggetto il cumulo di più licenze taxi?	X	<ol style="list-style-type: none"> 1 Sì 2 No 3 Solo se titolare di licenza taxi da oltre 10 anni
229	Il rilascio di autorizzazioni per il servizio di taxi e di noleggio con conducente sono accessibili a tutti i soggetti portatori di handicap?	X	<ol style="list-style-type: none"> 1 Sì 2 No

N.	DOMANDA	N.	RISPOSTA
			Solo quelli individuati dalla 3 Amministrazione comunale con Ordinanza sindacale
230	Qual'è l'autorità preposta a determinare il numero degli autoveicoli da ammettere al servizio pubblico da piazza?	X	1 Comune 2 Prefettura 3 Motorizzazione Civile
231	Qual'è l'autorità preposta al rilascio della concessione per il trasporto di persone mediante servizio pubblico non di linea?	X	1 Regione 2 Comune 3 Prefettura
232	Qual'è l'autorità preposta al controllo del tassametro?	X	1 Comune 2 Motorizzazione Civile 3 Guardia di Finanza
233	I conducenti di autoveicoli da piazza possono lasciare guidare l'autovettura a persona estranea al servizio anche se munito del certificato di abilitazione professionale?	X	1 Si 2 No 3 Previa autorizzazione della Prefettura
234	Quale tipo di C.A.P. è necessario per guidare un taxi?	X	1 KA 2 KB 3 KC
235	In materia fiscale:	X	1 Il tassista deve tenere i corrispettivi fiscali 2 Il tassista non deve tenere i corrispettivi fiscali 3 E' facoltativo tenere i corrispettivi fiscali
236	Relativamente all'orario:		1 E' facoltativo per il tassista rispettare l'orario impostogli

N.	DOMANDA	N.	RISPOSTA
		2	Il tassista non è tenuto a rispettare l'orario impostogli
	X	3	Il tassista è tenuto a rispettare l'orario impostogli
237	Per quanto concerne la piombatura del tassametro:		
		1	E' facoltativo provvedere alla piombatura del tassametro
		2	L'autovettura adibita a taxi non deve avere il tassametro piombato
	X	3	L'autovettura adibita a taxi deve avere il tassametro piombato
238	Quale ente piomba il tassametro?		
		1	Regione
		2	Provincia
	X	3	Comune
239	Per immatricolare una vettura a taxi occorre una autorizzazione. Da chi viene rilasciata?		
		1	Questura
	X	2	Comune
		3	Provincia
240	Chi delibera le tariffe per il servizio taxi?		
		1	Provincia
	X	2	Comune
		3	Regione
241	Chi propone il rinnovo delle tariffe?		
		1	Comune
	X	2	Organizzazioni Sindacali
		3	Regione
242	Quale autorità obbliga il tassametro?		
		1	Motorizzazione Trasporti
		2	Camera di Commercio
	X	3	Comune
243	Quale ente rilascia la licenza taxi?		
		1	Regione
		2	Provincia
	X	3	Comune
244	Quale autorità può revocare la licenza?		
		1	Provincia
	X	2	Comune
		3	Regione
245	Il tassista deve prestare servizio per tutta la rete italiana?		

N.	DOMANDA	N.	RISPOSTA
		1	Si
		2	No
	X	3	Facoltativo
246	Al tassista è consentito pretendere una tariffa maggiore di quella indicata dal tassametro?		
	X	1	Secondo il percorso
		2	No
		3	Si
247	Il segnale "TAXI" deve essere luminoso?		
	X	1	No
		2	Si
		3	Facoltativo
248	Quale autorità accoglie i reclami?		
	X	1	Regione
		2	Questura
		3	Comune
249	Quale ente esamina eventuali reclami?		
	X	1	Provincia
		2	Comune
		3	Regione
250	Che colorazione esterna deve avere l'autovettura da adibire a taxi?		
	X	1	Giallo chiara
		2	Bianca
		3	Giallo scura
251	Sono ammessi all'esterno delle autovetture fregi o fasce mono o policrome?		
	X	1	Si
		2	No
		3	Solo nella parte anteriore
252	Sulle fiancate dei taxi lo stemma identificativo dell'azienda e/o del Comune:		
	X	1	E' obbligatorio
		2	E' facoltativo
		3	E' obbligatorio solo se previsto dal regolamento comunale
253	Qual'è l'ente preposto alla determinazione delle tariffe?		
	X	1	Amministrazione comunale
		2	Amministrazione regionale
		3	Amministrazione provinciale

N.	DOMANDA	N.	RISPOSTA
254	Dove avviene il prelievo dell'utente?		
		X	1 Nel territorio del comune
			2 Fuori territorio comunale
			3 All'estero
255	Presso quale ente è istituito il ruolo dei conducenti di veicoli o natanti adibiti a servizi pubblici non di linea?		
		X	1 Regione
			2 Camera di Commercio
			3 Comune
256	Qual'è il requisito indispensabile per l'iscrizione al ruolo?		
		X	1 Certificato di abilitazione professionale
			2 Certificato penale
			3 Certificato antimafia
257	A che cosa serve l'iscrizione al ruolo?		
		X	1 Per l'esercizio del servizio di taxi o autonoleggio con conducente
			2 Per il rilascio del certificato di abilitazione professionale
			3 Per l'iscrizione al registro mestieri ambulanti
258	In merito alla pulizia dell'autovettura:		
			1 Il tassista deve provvedere costantemente al mantenimento della pulizia del veicolo anche durante la sosta al posteggio
			2 Il tassista può prestare servizio con il veicolo sporco
		X	3 Il tassista non può prestare servizio con il veicolo sporco
259	Il tassista è obbligato a pagare la TOSAP?		
		X	1 Sì
			2 No
			3 solo se staziona di notte

SICUREZZA ED ELEMENTI COSTITUTIVI DEL VEICOLO

260	In caso di nebbia fitta è opportuno		
		X	1 Evitare di fermarsi sulla carreggiata, se non per cause di forza maggiore
			2 Suonare insistentemente il clacson

N.	DOMANDA	N.	RISPOSTA
		3	Tenere la cintura di sicurezza sganciata per esser più pronti ad abbandonare il veicolo
261	In caso di nebbia fitta è opportuno		Entrare speditamente nel banco di nebbia per poterne uscire al più presto
		X	2 Accendere i proiettori fendinebbia o, in mancanza, quelli anabbaglianti
		3	Circolare con le sole luci di posizione accese
262	In caso di nebbia fitta è opportuno		1 Procedere ad una velocità adeguata alle proprie possibilità visive
		X	2 Usare le luci abbaglianti con fascio di profondità
		3	Procedere a zig zag per far meglio notare la propria presenza
263	In caso di nebbia fitta è opportuno		1 Usare le luci abbaglianti con fascio di profondità
		X	2 Se costretti a fermarsi su carreggiate, usare la segnalazione luminosa di pericolo
		3	Accodarsi al veicolo che precede senza rispettare la distanza di sicurezza
264	In caso di strada innevata il conducente deve		1 Applicare le catene o i pneumatici per neve sulle ruote motrici
		X	2 Applicare le catene sulle ruote posteriori, anche se la trazione è anteriore
		3	Sui tratti in discesa posizionare il cambio in folle e controllare la velocità mediante il freno
265	In presenza di tratti di strada ghiacciati è opportuno		1 Frenare energicamente
			2 Porre il cambio in folle
		X	3 Usare maggiore attenzione nell'accesso a zone in ombra
266	In presenza di tratti di strada ghiacciati è opportuno		1 Marciare molto vicino alla barriera laterale

N.	DOMANDA	N.	RISPOSTA
		X	<p>2 Ridurre notevolmente la velocità</p> <p>3 Lasciare di colpo l'acceleratore, con marcia bassa innestata</p>
267	Su strade coperte di neve occorre	X	<p>1 Evitare brusche manovre</p> <p>2 Accendere i proiettori fendinebbia o quelli anabbaglianti</p> <p>3 Frenare in caso di sbandamento del veicolo</p>
268	Su strade coperte di neve occorre	X	<p>1 Montare sulle ruote motrici catene o pneumatici per neve</p> <p>2 Frenare in caso di sbandamento del veicolo</p> <p>3 Frenare con maggiore energia</p>
269	Se la strada è bagnata o ghiacciata	X	<p>1 E' obbligatorio l'uso dei proiettori anabbaglianti</p> <p>2 E' consigliabile azionare dolcemente il volante</p> <p>3 E' opportuno sovraccaricare il veicolo per una maggior aderenza al fondo stradale</p>
270	Il sistema frenante antibloccaggio ruote (ABS)	X	<p>1 Funziona soltanto con pneumatici nuovi</p> <p>2 Impedisce il bloccaggio delle ruote durante la fase di frenatura</p> <p>3 Serve per bloccare il veicolo in caso di allontanamento del conducente</p>
271	Il sistema frenante antibloccaggio ruote (ABS)	X	<p>1 Assicura una migliore governabilità del veicolo in fase di frenatura</p> <p>2 Non è applicabile alle piccole autovetture</p> <p>3 Funziona solo in curva</p>
272	Se il sistema frenante antibloccaggio ruote (ABS) non funziona	X	<p>1 Si può proseguire la marcia con cautela facendo attenzione alle brusche frenate</p> <p>2 Bisogna arrestarsi subito</p> <p>3 Si può proseguire la marcia perché l'impianto frenante è comunque funzionante</p>

N.	DOMANDA	N.	RISPOSTA
273	L'airbag	1	E' azionato dal conducente in caso di pericolo
		2	E' un sistema utilizzato per regolare il volante
	X	3	Può essere di tipo frontale o laterale
274	In caso di pioggia occorre	1	Procedere, di norma, con il pedale della frizione abbassato
	X	2	Evitare l'appannamento dei vetri
		3	Frenare energicamente
275	In caso di forti piogge il conducente deve	1	Aumentare la velocità di marcia, nel rispetto dei limiti di legge
	X	2	Evitare di azionare il freno in modo improvviso e non dosato
		3	Usare pneumatici a pressione inferiore a quella normalmente consigliata
276	In caso di forti piogge il conducente deve	1	Evitare di azionare il freno in modo improvviso e non dosato
	X	2	Aumentare la velocità di marcia, nel rispetto dei limiti di legge
		3	Usare pneumatici a pressione inferiore a quella normalmente suggerita
277	In caso di acquazzoni, il fenomeno dell'aquaplaning dovuto a qualche millimetro d'acqua sull'asfalto	1	Fa scivolare le ruote sul terreno bagnato
	X	2	Aumenta artificialmente l'aderenza
		3	E' utile per la pulizia del veicolo
278	In caso di acquazzoni, il fenomeno dell'aquaplaning dovuto a qualche millimetro d'acqua sull'asfalto	1	Riduce lo sbandamento del veicolo
	X	2	E' quasi un galleggiamento sull'acqua
		3	E' più accentuato nelle strade a schiena d'asino
279	In caso di forte vento trasversale favorisce la stabilità		

N.	DOMANDA	N.	RISPOSTA
		X	1 Viaggiare con veicolo carico 2 Marciare a velocità sostenuta 3 Disporre sul portabagagli carichi voluminosi ma leggeri
280	Lo stato di shock		1 Non si verifica mai nei traumatizzati 2 Non è mai conseguente a forti emozioni 3 Può essere causato da un forte dolore
		X	
281	Lo stato di shock		1 Non rappresenta un grave pericolo per la salute 2 Può essere causato da un forte trauma 3 Non è mai conseguente a forti emozioni
		X	
282	Si deve chiamare la polizia a seguito di incidente stradale?		1 Quando non si è sicuri di essere dalla parte della ragione 2 Quando esiste la possibilità di responsabilità penali 3 Quando non si ha il modulo constatazione amichevole
		X	
283	Si deve chiamare la polizia a seguito di incidente stradale?		1 Quando l'incidente abbia provocato feriti 2 Se non si riesce a mettere in moto il veicolo 3 Mai, in caso di danni solo ai veicoli
		X	
284	Si deve chiamare la polizia a seguito di incidente stradale?		1 Quando non ci siano altri testimoni 2 Quando non si ha il modulo di constatazione amichevole 3 In caso di investimento di persona con lesioni
		X	
285	La responsabilità penale connessa al sinistro stradale sorge		1 In tutti i casi di danni alle persone o alle cose 2 Nei confronti del proprietario del veicolo nel caso in cui il conducente rimanga non identificato

N.	DOMANDA	N.	RISPOSTA
		X	
		3	Qualora esso provochi lesioni gravi a persone
286	La responsabilità penale connessa al sinistro stradale sorge		
		1	Qualora esso provochi lesioni, di qualsiasi entità
		X	
		2	Allorché vengano violate norme contemplate dal codice penale o talune norme del codice della strada
		3	In ogni caso in cui sia violato il codice della strada
287	La responsabilità penale connessa al sinistro stradale è esclusa		
		X	
		1	Quando il fatto dipende da causa di forza maggiore
		2	Ogni qualvolta ci sia stato il risarcimento del danno
		3	Qualora intervenga l'impresa assicuratrice pagando adeguatamente
288	La responsabilità civile connessa al sinistro stradale		
		1	E' esclusa per danni di lieve entità
		X	
		2	Non grava sul conducente se questi prova di aver fatto il possibile per evitare il danno
		3	E' aggravata dalla violazione di norme penali
289	Chi è civilmente obbligato a risarcire i danni provocati da un sinistro stradale		
		1	Può, in alternativa, chiedere il pagamento di una oblazione
		X	
		2	Non è tenuto a chiedere l'intervento degli organi di polizia, se non vi sono danni alle persone
		3	Deve necessariamente richiedere l'intervento degli organi di polizia
290	Chi è penalmente e civilmente responsabile di un sinistro stradale		
		X	
		1	Può incorrere nella sospensione della patente di guida
		2	E' in ogni caso assoggettato alla revoca della patente
		3	Non è assoggettato alle sanzioni del Codice della Strada

N.	DOMANDA	N.	RISPOSTA
291	In caso di incidente stradale, il conducente	1	Se interviene l'autorità, deve solo far verbalizzare la propria versione dell'incidente
	X	2	Deve annotare le generalità dell'altro conducente e gli estremi di patente, veicolo e assicurazione
		3	Basta che si ricordi dell'esatta posizione dei veicoli dopo lo scontro
292	Per individuare persone e veicoli in un incidente stradale	1	Per l'individuazione del veicolo, occorre verificare sempre il numero del telaio
	X	2	Controllare un documento atto a consentire la rilevazione dell'identità del conducente
		3	E' sufficiente chiedere le generalità
293	L'individuazione dei testimoni, in caso di incidente stradale	1	Serve solo se il conducente dell'altro veicolo è chiaramente una persona poco affidabile
	X	2	Non occorre se interviene l'autorità; è bene però far verbalizzare la propria versione
		3	Non serve se la responsabilità dell'incidente è dell'altro conducente
294	In caso di incidente il soccorritore deve	1	Valutare la situazione al fine di proteggere la vittima da ulteriori pericoli
	X	2	Allontanarsi dal luogo dell'incidente
		3	Limitarsi ad attendere i soccorsi senza fare nulla
295	Dopo un incidente stradale occorre	1	Mettere l'apposito segnale di veicolo fermo, nella posizione prevista dal codice della strada
	X	2	Solo di notte, apporre il triangolo in prossimità del veicolo
		3	Coprire il veicolo con un telo di plastica

N.	DOMANDA	N.	RISPOSTA
296	Il veicolo, dopo un incidente stradale, può essere spostato	X	<p>In ogni caso, ma ricordandosi bene</p> <ol style="list-style-type: none"> 1 la posizione dei veicoli per riferirla all'autorità 2 Dopo che la polizia ha rilevato tutti gli elementi utili alla ricostruzione dell'incidente 3 Solo durante le ore diurne
297	In caso di incidente, si deve segnalare il pericolo ai veicoli che sopraggiungono	X	<p>Con l'apposito segnale di veicolo fermo, se l'incidente provoca ingombro della carreggiata</p> <ol style="list-style-type: none"> 2 Di notte, accendendo un fuoco in prossimità del veicolo incidentato 3 Suonando a intervalli regolari il dispositivo di segnalazione acustica
298	L'assicurazione per la responsabilità civile auto (R.C.A.), obbligatoria per legge, comprende	X	<p>Il risarcimento dei danni provocati dal veicolo, solo se guidato dal proprietario</p> <ol style="list-style-type: none"> 2 Il risarcimento di danni provocati dal veicolo a terze persone entro i massimali 3 Il danno a terzi e il furto entro i massimali
299	La insufficiente tenuta di strada del veicolo può dipendere	X	<ol style="list-style-type: none"> 1 Dalla mancanza di equilibratura delle ruote 2 Dal tipo di sterzo 3 Dalla presenza del differenziale autobloccante
300	In caso di incidente stradale, il conducente	X	<p>Se vi sono feriti, è opportuno che faccia intervenire le autorità per le constatazioni di rito</p> <ol style="list-style-type: none"> 2 Se vi sono feriti deve in ogni caso chiamare il pronto soccorso 3 Se ha torto deve prendere le generalità dell'altro conducente, se ha ragione non occorre

N.	DOMANDA	N.	RISPOSTA
301	L'individuazione dei testimoni, in caso di incidente stradale	X	<p>1 Non è indispensabile se ci si avvale della constatazione amichevole</p> <p>2 Serve solo se il conducente dell'altro veicolo è chiaramente una persona poco affidabile</p> <p>3 E' utile solo se l'assicurazione di uno dei conducenti è scaduta</p>
302	In caso di incidente, si deve segnalare il pericolo ai veicoli che sopraggiungono	X	<p>1 Suonando a intervalli regolari il dispositivo di segnalazione acustica</p> <p>2 Solamente se il traffico è bloccato a causa dell'incidente</p> <p>3 Immediatamente in caso di ingombro della carreggiata, specialmente se in curva</p>
303	In caso di traffico intenso il conducente deve	X	<p>1 Occupare le corsie riservate alla marcia dei veicoli in servizio pubblico, soltanto se libere</p> <p>2 Fare uso del lampeggio simultaneo di tutti gli indicatori di direzione</p> <p>3 Evitare di suonare il clacson per invitare i veicoli che lo precedono ad accelerare l'andatura</p>
304	La sospensione della patente è disposta	X	<p>1 In caso di temporanea perdita dei requisiti fisici o psichici</p> <p>2 Quando il titolare affidi la guida del proprio veicolo a chi è privo di patente</p> <p>3 Quando il titolare non sia più in possesso dei requisiti morali richiesti</p>
305	La disattenzione e il mancato senso del pericolo può essere causato da	X	<p>1 Uso di farmaci e sedativi</p> <p>2 Abuso di bevande analcoliche</p> <p>3 Eccessivo condimento degli alimenti</p>
306	La distanza di sicurezza di un veicolo rispetto al veicolo che precede deve essere		

N.	DOMANDA	N.	RISPOSTA
		X	<p>1 Correlata alle condizioni del traffico</p> <p>2 Commisurata all'ampiezza della carreggiata</p> <p>3 Di almeno 10 m se il veicolo che precede è una macchina sgombraneve in azione</p>
307	Il fine del primo soccorso è	X	<p>1 Evitare, per quanto possibile, che la vittima subisca ulteriori lesioni</p> <p>2 Informarsi dalla vittima sulle modalità dell'incidente per riferire alle autorità di competenza</p> <p>3 Allontanare in ogni caso la vittima dal luogo dell'incidente</p>
308	Nel caso l'infortunato, cosciente, abbia riportato un trauma della gabbia toracica, bisogna	X	<p>1 Prestare assistenza fino all'arrivo di più adeguati soccorsi</p> <p>2 Porre il soggetto in posizione distesa</p> <p>3 In caso di ferita profonda, pulire, disinfettare e medicare la lesione</p>
309	Nel caso la vittima presenti una o più fratture agli arti, si deve	X	<p>1 Somministrare al ferito una bevanda superalcolica</p> <p>2 Dopo aver immobilizzato l'arto, attuare, se necessario, le comuni misure anti-shock</p> <p>3 In caso di fratture con fuoriuscita di osso, cercare di reinserirlo nei tessuti</p>
310	Nel caso la vittima presenti una o più fratture agli arti, si deve	X	<p>1 Non muovere l'arto fratturato se non dopo averlo immobilizzato</p> <p>2 Cercare di correggere la frattura per limitare il dolore</p> <p>3 Invitare l'infortunato a muovere l'arto fratturato per valutare l'entità delle lesioni</p>
311	Il conducente che accusa segni di stanchezza deve		<p>1 Accostarsi il più possibile al veicolo che lo precede nella marcia</p>

N.	DOMANDA	N.	RISPOSTA
		2	Spegnere le luci del cruscotto
	X	3	Ove necessario, fermarsi anche sulla corsia per la sosta di emergenza
312	L'assunzione di stupefacenti influisce sulla guida perché		
	X	1	Migliora la risposta alla fatica
		2	Altera le percezioni (vista, udito, riflessi)
		3	Migliora l'autocontrollo
313	Soccorrere un infortunato della strada		
	X	1	Non è obbligatorio
		2	E' obbligatorio anche per dovere morale
		3	E' obbligatorio solo se si giudica grave l'incidente
314	Si ha "stato di ebbrezza" se il valore del tasso alcoolemico è superiore a		
	X	1	0,5 grammi per litro
		2	0,1 grammi per litro
		3	5 grammi per litro
315	La striscia bianca continua che delimita la corsia di emergenza		
	X	1	Segnala il bordo della carreggiata
		2	Indica anche la corsia di accelerazione
		3	Può essere sempre superata in caso di intasamento del traffico
316	Sono esentati dall'obbligo di indossare le cinture di sicurezza		
	X	1	Istruttori di guida nello svolgimento della loro attività
		2	Militari delle forze armate
		3	Personale che preleva o distribuisce la posta
317	Se, per rottura dell'impianto frenante, l'efficienza dei freni è limitata alle sole ruote dell'asse posteriore, è consigliabile		
	X	1	Spostare i carichi mobili nel portabagagli posteriore o nella parte posteriore dell'abitacolo
		2	Ridurre la pressione dei pneumatici montati sulle ruote dell'asse anteriore
		3	Controllare il liquido di raffreddamento del motore

N.	DOMANDA	N.	RISPOSTA
318	Deve essere eseguito con frequenza sull'impianto di illuminazione	X	<p>L'accertamento dell'accensione e del corretto funzionamento di tutte le luci</p> <p>1</p> <p>2 Il controllo della frequenza della corrente alternata</p> <p>3 La misurazione della funzionalità dello spinterogeno</p>
319	Per controllare lo sbandamento del veicolo è opportuno	X	<p>1 Lasciare, di norma, innestata la frizione</p> <p>Innestare una marcia inferiore e lasciare bruscamente il pedale della frizione</p> <p>2</p> <p>3 Frenare immediatamente</p>
320	Per mantenere i freni efficienti è necessario sottoporre a periodici controlli	X	<p>1 Il gioco dello sterzo</p> <p>2 La capacità di frenatura</p> <p>3 I cerchioni delle ruote</p>
321	Se lo sterzo si presenta più duro del normale, può dipendere	X	<p>1 Da sovraccarico dell'asse posteriore</p> <p>2 Da insufficienza del servosterzo</p> <p>3 Dai pneumatici anteriori troppo gonfi</p>
322	Cosa non consente la patente di guida di categoria B	X	<p>1 Di superare i 100 Km/h in autostrada per i primi tre anni dal conseguimento</p> <p>2 Prevede limitazioni di velocità per i primi tre anni dalla data di superamento dell'esame</p> <p>3 Non consente di circolare a 130 Km/h in autostrada a chi l'ha conseguita da meno di 3 anni</p>
323	Il numero delle persone trasportabili	X	<p>1 E' indicato sulla carta di circolazione</p> <p>2 Sui motoveicoli è sempre di due oltre il conducente</p> <p>3 Sulle autovetture è al massimo di cinque</p>

N.	DOMANDA	N.	RISPOSTA
324	L'aderenza delle ruote sul manto stradale è ridotta da	X	<ul style="list-style-type: none"> 1 Presenza di melma sul fondo stradale 2 Aumento dei carichi trasportati 3 Elevato numero di giri del motore
325	Il fenomeno dell'aquaplaning	X	<ul style="list-style-type: none"> 1 Fa sollevare le ruote dal terreno bagnato 2 Riduce lo sbandamento del veicolo 3 Aumenta nelle carreggiate a forte pendenza laterale
326	L'insufficiente tenuta di strada del veicolo può dipendere	X	<ul style="list-style-type: none"> 1 Dalla cattiva distribuzione dei carichi 2 Dal tipo di sterzo 3 Dalla presenza del differenziale autobloccante
327	La squilibratura dei freni può dipendere da	X	<ul style="list-style-type: none"> 1 Eccessivo gioco della frizione 2 Lunghe, eccessive e ripetute frenate 3 Eccessiva velocità
328	Una frenatura poco efficiente o squilibrata può essere causata	X	<ul style="list-style-type: none"> 1 Dallo scarso livello dell'olio nella coppa del motore 2 Dal tipo di olio usato nel differenziale 3 Dall'eccessivo riscaldamento delle guarnizioni frenanti
329	Una frenatura poco efficiente o squilibrata può essere causata	X	<ul style="list-style-type: none"> 1 Dal logorio della frizione 2 Dal carico erroneamente ripartito o eccessivo 3 Dal tipo di olio usato nel differenziale
330	Una frenatura poco efficiente o squilibrata può essere causata	X	<ul style="list-style-type: none"> 1 Dalla presenza dell'aria nel circuito frenante 2 Dal consumo eccessivo dei denti del freno a mano 3 Dall'eccessiva morbidezza delle guarnizioni frenanti

N.	DOMANDA	N.	RISPOSTA
331	Al fine di evitare il prodursi di incidenti stradali, il conducente controllerà sovente	X	<ol style="list-style-type: none"> 1 La rumorosità della marmitta 2 La convergenza e l'equilibratura delle ruote 3 Il livello dell'olio nella coppa
332	Può ritenersi utile ai fini della sicurezza	X	<ol style="list-style-type: none"> 1 Circolare con i proiettori anabbaglianti orientati verso l'alto 2 Effettuare lunghi viaggi senza soste intermedie 3 Approssimarsi agli incroci rallentando prudentemente
333	E' pericoloso ai fini della sicurezza	X	<ol style="list-style-type: none"> 1 Usare impropriamente i proiettori a luce abbagliante 2 Sostare di notte fuori della carreggiata 3 Sostare fuori dei centri abitati dalle ore 8 alle ore 20
334	Per garantire la sicurezza della circolazione ed evitare incidenti è necessario, fra l'altro,	X	<ol style="list-style-type: none"> 1 Tenere sempre efficiente l'impianto di illuminazione e di segnalazione visiva 2 Controllare periodicamente l'efficienza ed il funzionamento del differenziale 3 Lasciare i catadiottri coperti di polvere per evitare che scoloriscano
335	Per garantire la sicurezza della circolazione ed evitare incidenti è necessario, fra l'altro,	X	<ol style="list-style-type: none"> 1 Controllare periodicamente l'efficienza ed il funzionamento delle luci di posizione 2 Controllare periodicamente l'efficienza ed il funzionamento della pompa dell'acqua di raffreddamento 3 Sostituire le lampadine con altre di resistenza più elevata per assicurarle una maggiore durata

N.	DOMANDA	N.	RISPOSTA
336	Per garantire la sicurezza della circolazione ed evitare incidenti è necessario, fra l'altro,	X	<p>Assicurarsi della pulizia ed efficienza degli specchi retrovisori interni ed esterni</p> <p>1</p> <p>Tenere sempre completamente aperti tutti i finestrini, d'estate, per non impolverare i vetri</p> <p>2</p> <p>In caso di lesioni al parabrezza, ricoprirle con nastro adesivo trasparente non colorato</p> <p>3</p>
337	Per garantire la sicurezza della circolazione ed evitare incidenti è necessario, fra l'altro,	X	<p>Utilizzare il tergicristallo se il parabrezza è appannato internamente</p> <p>1</p> <p>Verificare periodicamente le spazzole tergicristallo sostituendole se non sono in buono stato</p> <p>2</p> <p>Utilizzare esclusivamente vetri temperati</p> <p>3</p>
338	Per garantire la sicurezza della circolazione ed evitare incidenti è necessario, fra l'altro,	X	<p>Tenere presente che il freno di stazionamento può essere sempre usato come freno di soccorso</p> <p>1</p> <p>Tenere presente che lo spazio di frenatura si quadruplica se raddoppia la velocità</p> <p>2</p> <p>Controllare che la spia dell'olio freni sia correttamente accesa durante la marcia</p> <p>3</p>
339	Per garantire la sicurezza della circolazione ed evitare incidenti è necessario, fra l'altro,	X	<p>Avere cura di non produrre il riscaldamento dei freni per uso prolungato</p> <p>1</p> <p>Accertarsi del corretto funzionamento almeno del freno di servizio</p> <p>2</p> <p>Frenare a fondo su strada sdruciolevole</p> <p>3</p>
340	Per garantire la sicurezza della circolazione ed evitare incidenti è necessario, fra l'altro,		

N.	DOMANDA	N.	RISPOSTA
		X	<p>1 Utilizzare pneumatici delle dimensioni previste dalla casa costruttrice</p> <p>2 Diminuire la pressione dei pneumatici perché se ne migliora il raffreddamento</p> <p>3 Aumentare la pressione dei pneumatici per migliorarne l'aderenza</p>
341	Per garantire la sicurezza della circolazione ed evitare incidenti è necessario, fra l'altro,		<p>1 Utilizzare pneumatici di sezione più larga, purché di tipo omologato</p> <p>2 Non cambiare mai la posizione dei pneumatici per permettere loro di adattarsi meglio</p> <p>3 Sostituire i pneumatici molto consumati perché rendono meno efficace la frenatura</p>
342	In caso di avverse condizioni del tempo, prima di partire bisogna	X	<p>1 Pulire bene il parabrezza e i vetri che interessano la visibilità del conducente</p> <p>2 Sostituire la ruota di scorta</p> <p>3 Tirare il freno a mano</p>
343	In caso di avverse condizioni del tempo, prima di partire bisogna	X	<p>1 Cambiare l'olio dei freni</p> <p>2 Controllare che le luci del veicolo funzionino tutte</p> <p>3 Cambiare l'olio del motore</p>
344	La squilibratura dei freni può dipendere da	X	<p>1 Eccessivo gioco del pedale del freno</p> <p>2 Frenatura effettuata con il cambio in folle</p> <p>3 Tamburo ovalizzato</p>
345	Con freni squilibrati, può avvenire in frenata	X	<p>1 Lo spostamento del carico all'indietro</p> <p>2 Che sia compromessa la stabilità del veicolo</p> <p>3 Un consumo eccessivo del liquido del circuito frenante</p>

N.	DOMANDA	N.	RISPOSTA
346	Con freni squilibrati, può avvenire in frenata	X	<ol style="list-style-type: none"> 1 Che si blocchino soltanto le ruote di un lato 2 La staratura del servofreno 3 Uno sbandamento trasversale dalla parte della ruota che si blocca per ultima
347	Se il veicolo, in fase di frenatura, tende a sbandare verso sinistra, il conducente deve	X	<ol style="list-style-type: none"> 1 Provvedere a far controllare l'equilibratura del sistema frenante 2 Mantenere il veicolo frenato a fondo e controllare l'andamento del veicolo con rapide sterzate 3 Far controllare il livello dell'olio nella coppa del motore
348	Per assicurare stabilità al veicolo in curva è opportuno	X	<ol style="list-style-type: none"> 1 Tenere sul tetto solo i bagagli più pesanti 2 Procedere con il pedale della frizione abbassato 3 Ridurre o eliminare i bagagli sul tetto
349	L'insufficiente tenuta di strada del veicolo può dipendere	X	<ol style="list-style-type: none"> 1 Dalla presenza di finestrini aperti solo da un lato 2 Dal tipo di sterzo 3 Dalla eccessiva pressione dei pneumatici
350	Se, per rottura dell'impianto frenante, l'efficienza dei freni è limitata alle sole ruote dell'asse posteriore, è consigliabile	X	<ol style="list-style-type: none"> 1 Ridurre la velocità 2 Ridurre la distanza di sicurezza dal veicolo che lo precede 3 Ridurre la pressione dei pneumatici montati sulle ruote dell'asse anteriore
351	I pneumatici degli autoveicolo con battistrada eccessivamente usurato	X	<ol style="list-style-type: none"> 1 Provocano l'aumento dello spazio di frenatura del veicolo 2 Aumentano l'aderenza

N.	DOMANDA	N.	RISPOSTA
		3	Sono pericolosi soltanto in caso di pioggia
352	Sui pneumatici occorre verificare frequentemente		
		1	L'effetto della prova di frenatura a marcia indietro
		2	Il loro peso
	X	3	Lo stato di usura del battistrada
353	I pneumatici con battistrada eccessivamente usurato		
		1	Influiscono sulla stabilità del veicolo solo in curva
		2	Sono pericolosi soltanto in caso di pioggia
	X	3	Sono più soggetti alla foratura ed allo scoppio
354	I pneumatici con lesioni sui fianchi che interessano le tele		
	X	1	Si devono sostituire
		2	Possono essere usati a bassa velocità
		3	Costituiscono pericolo se tenuti ad elevata pressione
355	Viaggiando con pneumatici dello stesso asse gonfiati con pressioni differenti		
	X	1	Si compromette la tenuta di strada del veicolo
		2	E' opportuno frenare più energicamente
		3	Si affatica l'albero di trasmissione
356	L'aderenza delle ruote sul manto stradale è ridotta da		
	X	1	Bassa velocità
		2	Strada bagnata
		3	Uso di marcia bassa
357	In un centro abitato, allorché un pedone, fuori dalle strisce di attraversamento, non accenni a darci la precedenza, è opportuno		
	X	1	Rallentare la velocità e, occorrendo, fermarsi per non investire il pedone
		2	Cercare di richiamare la sua attenzione con qualsiasi mezzo perché ci dia la precedenza
		3	Proseguire, senza curarci di lui, perché abbiamo la precedenza

N.	DOMANDA	N.	RISPOSTA
358	Quando in centro abitato ci imbattiamo in un corteo, è opportuno	X	<p>1 Fermarci sulla destra e attendere che la carreggiata si liberi</p> <p>2 Se proprio abbiamo fretta, passare rapidamente usando il clacson in maniera continua</p> <p>3 Cercare di farci strada interrompendo il corteo, ma con estrema prudenza</p>
359	In presenza di cortei	X	<p>1 E' vietato interromperli</p> <p>2 Se sono formati da autoveicoli si può sorpassare un veicolo per volta</p> <p>3 Bisogna rallentare e fermarsi soltanto se si tratta di colonne militari</p>
360	L'isola di traffico	X	<p>1 E' una zona riservata esclusivamente al transito dei pedoni</p> <p>2 Contiene zebraure di colore bianco se a raso</p> <p>3 Agevola la salita e la discesa di passeggeri dei tram, filobus ed autobus</p>
361	L'isola di traffico	X	<p>1 E' una piazzola di sosta per i veicoli</p> <p>2 Può essere percorsa solo dai taxi e dagli autobus urbani</p> <p>3 E' una parte della strada esclusa dal traffico veicolare</p>
362	Una zona a traffico limitato può essere	X	<p>1 Un'area sempre e comunque esclusa al traffico dei veicoli a motore</p> <p>2 Un'area in cui l'accesso dei veicoli può essere consentito soltanto in ore prestabilite</p> <p>3 Un'area nella quale l'accesso dei pedoni è soggetto a limitazioni</p>
363	Se lo sterzo si presenta più duro del normale può dipendere	X	<p>1 Dalla presenza del servosterzo</p> <p>2 Da cattiva registrazione delle ruote</p> <p>3 Da cattiva registrazione dei freni</p>

N.	DOMANDA	N.	RISPOSTA
364	Se lo sterzo sfarfalla vibrando fortemente		
		1	Può dipendere dalla trazione posteriore
	X	2	Può dipendere dalla diversa inclinazione delle ruote anteriori
		3	Può dipendente dalle asperità stradali
365	Perché gli organi di sterzo contribuiscono alla sicurezza della circolazione?		
	X	1	I pneumatici debbono essere correttamente gonfiati secondo i dati forniti dal costruttore
		2	I pneumatici debbono essere tenuti a bassa pressione per aumentare l'aderenza
		3	Bisogna lubrificare periodicamente il volante
366	Se lo sterzo vibra fortemente		
	X	1	Può dipendere dalle ruote motrici non equilibrate
		2	Può dipendere dalla trazione posteriore
		3	Può dipendere dalla eccessiva pressione dei pneumatici
367	Se si stanno eseguendo terapie con farmaci che non hanno azione sedativa		
		1	Non si può guidare in alcun caso
	X	2	Si può guidare purché la patologia che ha dato luogo alla terapia sia compatibile con la guida
		3	Si può guidare solo se assunti a dosaggio molto basso
368	Chi assume o ha assunto abitualmente droghe:		
		1	Può conseguire o conservare la patente di guida limitatamente alle auto di piccola cilindrata
	X	2	Può conseguire o conservare la patente previo parere favorevole della Commissione medica locale
		3	Non può conseguire o conservare la patente di guida in nessun caso
369	Attualmente il tasso alcolico massimo ammesso per i conducenti di taxi è:		
		1	0,5 grammi per litro
	X	2	0,0 grammi per litro
		3	0,3 grammi per litro

N.	DOMANDA	N.	RISPOSTA
370	Chi guida un veicolo, anche se ad elevate prestazioni, deve comunque	X	<ol style="list-style-type: none"> 1 Tenere in funzione gli abbaglianti anche di giorno 2 Evitare di costituire pericolo per gli altri utenti della strada 3 Sorpassare in ogni condizione di traffico, purché non ci sia il segnale di divieto
371	Allorché, di notte, su strada extraurbana, incrociamo un veicolo con fari a luce abbagliante accesi, occorre	X	<ol style="list-style-type: none"> 1 Azionare le trombe bitonali per richiamare l'attenzione del veicolo incrociante 2 Tenere conto della ridotta visibilità nel nostro comportamento di guida 3 Cercare di ripararsi gli occhi con le mani
372	Sulla stabilità del veicolo in marcia influisce positivamente	X	<ol style="list-style-type: none"> 1 La corretta equilibratura delle ruote 2 La scolpitura dei pneumatici 3 Il tipo di motore
373	Gli organi di sospensione elastica dei veicoli migliorano la sicurezza della circolazione perché	X	<ol style="list-style-type: none"> 1 Rendono meno morbida la marcia 2 Ammortizzano gli urti contro le asperità del suolo, rendendo più confortevole e sicura la guida 3 Consentono alla carrozzeria di seguire le asperità del terreno
374	La polizza di assicurazione per le responsabilità civile auto (R.C.A.) copre	X	<ol style="list-style-type: none"> 1 La responsabilità civile, oltre i massimali 2 I danni ai trasportati 3 I rischi che gravano sul conducente, ma non sul proprietario del veicolo
375	La insufficiente tenuta di strada del veicolo può dipendere		<ol style="list-style-type: none"> 1 Dal veicolo troppo leggero perché scarico

N.	DOMANDA	N.	RISPOSTA
		X	2 Dalle sospensioni non più efficienti
			3 Dal tipo di battistrada del pneumatico
376	La insufficiente tenuta di strada del veicolo può dipendere		1 Dal tipo di sterzo
		X	2 Dalla eccessiva pressione dei pneumatici
			3 Dal portapacchi montato sulla vettura
377	Per mantenere i freni efficienti è necessario verificare		1 Frequentemente la capacità di frenatura
		X	2 La consistenza della polvere dei ferodi
			3 La rumorosità dei freni
378	Per adattarsi alle condizioni contrarie del tempo e prevenire incidenti stradali occorre		1 Usare preferibilmente trombe bitonali
		X	2 Aumentare la distanza di sicurezza dal veicolo che precede
			3 Aumentare la velocità in modo da occupare per minor tempo la carreggiata
379	Se la vittima di un incidente stradale è in stato di incoscienza si deve		1 Fasciare ed immobilizzare la testa
			2 Chiedere al soggetto se avverte dolore al capo
		X	3 Se respira spontaneamente, porlo delicatamente in posizione laterale di sicurezza
380	Qualora l'infortunato presenti stato di shock, occorre		1 Porlo in posizione seduta
		X	2 Distenderlo con gli arti inferiori sollevati rispetto al corpo, se possibile
			3 Percuotere con garbo, ma decisamente, le guance e gli arti per riattivare la circolazione
381	Gli ammortizzatori scarichi provocano		1 L'usura non uniforme del battistrada dei pneumatici
		X	

N.	DOMANDA	N.	RISPOSTA
		2	Un anomalo funzionamento del motore
		3	Un maggior consumo di lubrificante
382	Gli ammortizzatori scarichi provocano		
	X	1	La possibile rottura delle molle delle sospensioni
		2	Un anomalo funzionamento dell'impianto elettrico
		3	Un anomalo funzionamento del motore
383	Per controllare lo sbandamento del veicolo è opportuno		
		1	Lasciare bruscamente l'acceleratore Innestare una marcia inferiore e
		2	lasciare bruscamente il pedale della frizione
	X	3	Lasciare, di norma, innestata la frizione
384	Causa frequente di incidenti dovuti alle condizioni della strada può essere		
	X	1	Fondo ghiacciato
		2	Presenza di pista ciclabile
		3	Presenza di spartitraffico
385	La fermata del veicolo per la semplice salita e discesa dei passeggeri è sempre vietata		
		1	Nelle aree urbane in caso di pioggia
	X	2	Nei tratti di strada dove vi sia la segnaletica orizzontale di preselezione
		3	In seconda fila
386	In caso di strada sdruciolevole il conducente deve		
	X	1	Cercare di procedere a velocità quanto più possibile uniforme
		2	Aumentare la velocità di marcia
		3	Percorrere le forti discese con il cambio in folle, controllando la velocità mediante il freno

CONSUMI ENERGETICI

387	Per limitare i consumi di carburante		
	X	1	Convieni mantenere il più possibile costante la velocità
		2	Convieni evitare percorsi pianeggianti
		3	Si deve marciare ad un numero elevato di giri del motore

N.	DOMANDA	N.	RISPOSTA
388	Per limitare i consumi di carburante		
		X	<ol style="list-style-type: none"> 1 Si devono mantenere elevate velocità 2 Conviene ridurre il numero e l'intensità delle accelerazioni 3 Conviene usare carburanti più economici
389	Per limitare i consumi di carburante		
		X	<ol style="list-style-type: none"> 1 Si deve usare un olio più fluido 2 Si deve usare benzina senza piombo 3 Conviene ridurre i carichi superflui

PROTEZIONE AMBIENTALE, INQUINAMENTO

390	Per ridurre l'inquinamento dell'aria provocato dalla circolazione dei veicoli azionati da motore a scoppio l'automobilista deve		
		X	<ol style="list-style-type: none"> 1 Provvedere alla frequente revisione degli organi di sospensione 2 Sostituire il filtro dell'aria con la frequenza suggerita dalla casa costruttrice del veicolo 3 Ridurre il tempo di accensione del motore, marciando a velocità elevata nei limiti consentiti
391	Per ridurre l'inquinamento dell'aria provocato dalla circolazione dei veicoli azionati da motore a scoppio l'automobilista deve		
		X	<ol style="list-style-type: none"> 1 Marciare alle più elevate velocità di percorrenza consentite dal codice e dai segnali stradali 2 Evitare di tenere inserito il dispositivo di avviamento a freddo (starter) oltre il tempo necessario 3 Accelerare ripetutamente da fermo per tenere caldo il motore e migliorare il rendimento
392	I veicoli da adibire a servizio pubblico da piazza (taxi) immatricolati dopo il 05/04/1993:		
		X	<ol style="list-style-type: none"> 1 Devono essere obbligatoriamente muniti di dispositivi antinquinamento omologati 2 Possono essere muniti di marmitta catalitica 3 Non devono rispondere ad alcuna direttiva in quanto già circolanti

N.	DOMANDA	N.	RISPOSTA
393	Per ridurre l'inquinamento provocato dai veicoli con motore diesel bisogna	X	<ol style="list-style-type: none"> <li data-bbox="847 304 1485 365">1 Sostituire periodicamente il filtro dell'aria <li data-bbox="847 376 1485 436">2 Mettere l'antigelo nel circuito di raffreddamento <li data-bbox="847 465 1485 551">3 Marciare con frequenti frenature seguite da rapide riprese per tener pulito il collettore di scarico
394	Fermi ad un semaforo in un centro urbano si può aspettare il verde spegnendo il motore:	X	<ol style="list-style-type: none"> <li data-bbox="847 719 1485 748">1 No in ogni caso <li data-bbox="847 759 1485 788">2 Si è consentito in certi casi <li data-bbox="847 799 1485 815">3 Si solo di notte
395	L'inquinamento atmosferico prodotto dai veicoli a motore può essere ridotto	X	<ol style="list-style-type: none"> <li data-bbox="847 931 1485 992">1 Circolando costantemente con marce basse <li data-bbox="847 1003 1485 1064">2 Disponendo i bagagli ben fissati sul tetto dell'autovettura <li data-bbox="847 1075 1485 1128">3 Spegnendo il motore in caso di arresto prolungato
396	L'inquinamento atmosferico prodotto dai veicoli a motore può essere ridotto	X	<ol style="list-style-type: none"> <li data-bbox="847 1245 1485 1274">1 Limitando i consumi di carburante <li data-bbox="847 1285 1485 1346">2 Utilizzando costantemente il motore al regime massimo di rotazione <li data-bbox="847 1357 1485 1406">3 Tenendo il motore, durante le fermate, ad elevato numero di giri
397	L'inquinamento atmosferico prodotto dai veicoli con motore a scoppio	X	<ol style="list-style-type: none"> <li data-bbox="847 1525 1485 1615">1 Può dipendere dalla cattiva regolazione dei dispositivi di accensione <li data-bbox="847 1626 1485 1715">2 Scompare del tutto accelerando a fondo perché l'elevata temperatura brucia i residui incombusti <li data-bbox="847 1727 1485 1823">3 Diminuisce lasciando inserito il dispositivo di avviamento a freddo (starter)
398	L'inquinamento atmosferico prodotto dai veicoli con motore a scoppio		<ol style="list-style-type: none"> <li data-bbox="847 1939 1485 2000">1 Non è influenzato dalla presenza del piombo nella benzina <li data-bbox="847 2011 1485 2065">2 Non dipende dalla regolazione degli organi di carburazione

N.	DOMANDA	N.	RISPOSTA
			Può essere ridotto facendo uso di veicoli dotati di marmitta catalitica
	X	3	
399	L'inquinamento atmosferico prodotto dai veicoli con motore diesel		
		1	Diminuisce se si lasciano accese le candele di preriscaldamento
	X	2	E' maggiore se il fumo di scarico presenta colore scuro
		3	Non dipende dalla regolazione della pompa di iniezione
400	L'inquinamento atmosferico prodotto dai veicoli con motore diesel		
	X	1	Può dipendere dalla regolazione della pompa di iniezione
		2	Dipende dal tipo di liquido utilizzato per l'impianto di raffreddamento
		3	Dipende dall'efficienza delle candele
401	L'inquinamento atmosferico prodotto dai veicoli con motore diesel		
		1	Dipende dalla regolazione del carburante
		2	Scompare completamente accelerando a fondo
	X	3	Aumenta con l'intasamento del filtro dell'aria
402	Per ridurre il rumore emesso dai veicoli a motore è necessario		
	X	1	Far controllare i freni, se stridono
		2	Introdurre fluido antigelo nel radiatore
		3	Eliminare la marmitta per migliorare il rendimento del motore
403	Per ridurre il rumore emesso dai veicoli a motore è necessario		
	X	1	Che il dispositivo silenziatore applicato sull'autoveicolo sia efficiente
		2	Eliminare la marmitta per migliorare il rendimento del motore
		3	Introdurre paglietta di ferro nella marmitta
404	Per ridurre il rumore emesso dai veicoli a motore è necessario		

N.	DOMANDA	N.	RISPOSTA
		1	Utilizzare la tromba bitonale solo su strade di montagna
	X	2	Evitare di accelerare il motore a veicolo fermo
		3	Modificare il dispositivo silenziatore in modo da migliorare il rendimento del motore
405	Per ridurre il rumore emesso dai veicoli a motore è necessario		
		1	Modificare il dispositivo silenziatore in modo da migliorare il rendimento del motore
	X	2	Sostituire la marmitta deteriorata con altra di tipo approvato per lo stesso veicolo
		3	Introdurre paglietta di ferro nella marmitta
406	Per evitare rumori molesti durante la circolazione è opportuno o consentito		
	X	1	Usare i dispositivi di segnalazione acustica con la massima moderazione
		2	Sgommare alla partenza, al verde del semaforo, per sgombrare al più presto l'incrocio
		3	Nelle fermate per esigenze di traffico, mantenere il motore in moto accelerando ripetutamente
407	Per evitare rumori molesti durante la circolazione è opportuno o consentito		
		1	Usare il clacson per sollecitare gli altri utenti, solo nei casi di grave ingorgo
	X	2	Usare particolari cautele nei centri abitati
		3	Suonare per richiamare un altro conducente solo se ha commesso una infrazione nei nostri riguardi
408	Sono causa di rumorosità nei veicoli a motore		
		1	L'uso del servofreno
		2	L'uso di un liquido di raffreddamento senza anticongelante
	X	3	L'abuso dei dispositivi di segnalazione acustica
409	Sono causa di rumorosità nei veicoli a motore		
		1	L'uso dei freni a tamburo
	X	2	Gli ammortizzatori scarichi

N.	DOMANDA	N.	RISPOSTA
		3	L'insufficiente livello del liquido nel circuito frenante
410	Sono causa di rumorosità nei veicoli a motore		
		1	L'insufficiente livello del liquido nel circuito frenante
	X	2	La percorrenza delle curve a velocità che provoca lo strisciamento dei pneumatici
		3	L'impiego di catadiottri deteriorati

UTENZA PORTATRICE DI HANDICAP

411	Quale organo di occupazione del trasporto dei portatori di handicap?		
	X	1	Regione
		2	Comune
		3	Provincia
412	Per il portatore di handicap è obbligatorio l'accompagnamento?		
	X	1	Si
		2	No
		3	Limitatamente
413	Esistono convenzioni speciali per il trasporto dei portatori di handicap?		
	X	1	No
		2	Si
		3	Limitatamente
414	Il portatore di handicap può usare il taxi per andare al cinema?		
	X	1	No
		2	Si
		3	Limitatamente
415	Il portatore di handicap può usare il taxi per andare fuori comune?		
	X	1	Si
		2	No
		3	Limitatamente
416	Su un taxi il trasporto di disabili per cecità accompagnati da un cane:		
		1	Non è ammesso
		2	E' ammesso a discrezione del tassista
	X	3	Deve essere comunque garantito il servizio

N.	DOMANDA	N.	RISPOSTA
417	I veicoli in servizio di taxi o di n.c.c. appositamente attrezzati per il trasporto dei disabili, devono avere in posizione visibile il simbolo di «accessibilità»?	X	<ol style="list-style-type: none"> 1 Si 2 No 3 E' facoltativo
418	Relativamente all'allestimento dell'autovettura per il trasporto dei portatori di handicap:	X	<ol style="list-style-type: none"> 1 Il tassista è obbligato a provvedere all'allestimento del veicolo in modo da consentire il trasporto dei portatori di handicap 2 Il tassista non è obbligato a provvedere all'allestimento del veicolo in modo da consentire il trasporto dei portatori di handicap 3 L'obbligo esiste solo in relazione a determinate autovetture

SEGNALETICA STRADALE

419 Il segnale n.2



X

- 1 Presegnala una variazione di pendenza della strada con limitata visibilità
- 2 Presegnala una strettoia
- 3 Presegnala una strada con cunette

420 Il segnale n. 2



X

- 1 Presegnala un dosso
- 2 Presegnala una cunetta
- 3 E' necessario prestare attenzione al tratto di strada in cattivo stato

421 Il segnale n. 1:



X

- 1 Presegnala un dosso seguito da una cunetta
- 2 Presegnala una strada con fondo deformato
- 3 Presegnala un doppio dosso

422 Il segnale n. 7



X

- 1 Presegnala un tratto di strada con una serie di dossi
- 2 Presegnala una deviazione per lavori in corso
- 3 E' un segnale di pericolo

N.	DOMANDA	N.	RISPOSTA
----	---------	----	----------

423 In presenza del segnale n.8



X

- E' possibile transitare tra una
1 barra e l'altra se le semibarriere sono chiuse
2 E' consentito sostare
3 E' consentito il sorpasso, entro la semicarreggiata, per affiancarsi ai veicoli fermi in attesa

424 In presenza del segnale n.9



X

- E' possibile attraversare i binari
1 anche se sbarrati da cavalletti a strisce bianche e rosse
 Non è consentito sostare o fermarsi
2 in prossimità e in corrispondenza dei binari
3 E' necessario l'uso del segnalatore acustico prima di attraversare i binari

425 I pannelli di fig. 11abc



X

- Sono posti, rispettivamente, a circa
1 150, 100 e 50 metri dall'attraversamento ferroviario
2 Con due barre indicano attraversamento ferroviario con due binari
3 Si possono trovare solo se il passaggio a livello è con barriere o semibarriere

426 Il segnale n.13



X

- Comporta di dare la precedenza ai
1 pedoni che attraversano sulle strisce
2 Impone di usare i segnali acustici per avvertire i pedoni
3 Consente la fermata dei veicoli sulle strisce purché rimanga spazio sufficiente per i pedoni

427 In presenza del segnale n. 13 è necessario



X

- 1** Dare la precedenza solo ai pedoni che attraversano da destra
2 Non sorpassare i veicoli che rallentano per far attraversare i pedoni
3 Dare la precedenza solo ai pedoni che attraversano da sinistra






428 Il segnale n. 14

N.	DOMANDA	N.	RISPOSTA
	 <p style="text-align: right;">X</p>	<p>1</p> <p>2</p> <p>3</p>	<p>Segnala l'approssimarsi di luogo dal quale sboccano ciclisti sulla strada o la attraversano</p> <p>Presegnala l'inizio di una pista ciclabile</p> <p>Può indicare gare ciclistiche su strada</p>
429	<p>Il segnale n.16</p>  <p style="text-align: right;">X</p>	<p>1</p> <p>2</p> <p>3</p>	<p>Presegnala un tratto di strada pericoloso per curve strette</p> <p>Presegnala una salita che comporta un pericolo</p> <p>Presegnala una discesa la cui pendenza è indicata sul segnale</p>
430	<p>Il segnale n. 19</p>  <p style="text-align: right;">X</p>	<p>1</p> <p>2</p> <p>3</p>	<p>Presegnala una strettoia sul lato destro della carreggiata</p> <p>Presegnala la fine del doppio senso di circolazione</p> <p>Presegnala sempre un senso unico alternato</p>
431	<p>Il segnale n. 22, con gli opportuni pannelli integrativi,</p>  <p style="text-align: right;">X</p>	<p>1</p> <p>2</p> <p>3</p>	<p>Presegnala un tratto di strada che può diventare pericoloso in particolari condizioni</p> <p>Presegnala una strettoia</p> <p>Tenere presente che in caso di pioggia lo spazio di frenatura è minore</p>
432	<p>Il segnale n.23</p>  <p style="text-align: right;">X</p>	<p>1</p> <p>2</p> <p>3</p>	<p>Vieta il transito durante l'orario di uscita dei bambini da scuola</p> <p>Vieta il transito ai bambini non accompagnati</p> <p>Può segnalare nelle vicinanze una scuola elementare</p>
433	<p>Il segnale n.26</p>  <p style="text-align: right;">X</p>	<p>1</p> <p>2</p> <p>3</p>	<p>Presegnala che il traffico si svolge su due carreggiate separate</p> <p>Presegnala che la circolazione diventa a senso unico</p> <p>Presegnala il doppio senso di circolazione su una carreggiata normalmente a senso unico</p>
434	<p>Il segnale n. 27</p> 	<p>1</p>	<p>Al prossimo incrocio, vieta la svolta a destra</p>

N.	DOMANDA	N.	RISPOSTA
		X	<p>Presegnala un incrocio di due o più strade extraurbane regolato con circolazione rotatoria</p>
2			Regolato con circolazione rotatoria
3			presegnala una svolta a sinistra obbligatoria
435	Il segnale n.29		
		X	<p>Consiglia di accelerare per aumentare l'aderenza dei pneumatici sull'asfalto</p>
1			Preavvisa il pericolo di scoppio dei pneumatici
2			Presegnala un tratto di strada dove è possibile una diminuzione dell'aderenza sul terreno
3			
436	Il segnale n.30b		
		X	<p>Presegnala il pericolo di caduta di massi da destra</p>
1			Presegnala un tratto di strada non asfaltato
2			Presegnala una parete rocciosa battuta da forte vento laterale
3			
437	Il segnale n. 31a		
		X	<p>Presegnala un impianto semaforico</p>
1			Presegnala un attraversamento ferroviario senza barriere
2			Può presegnalare un passaggio a livello con semibarriere
3			
438	Il segnale n. 31a		
		X	<p>Nei centri abitati equivale al segnale di indicazione PREAVVISO DI SEMAFORO</p>
1			Preavvisa la presenza di un segnale di STOP
2			Presegnala la presenza di un ponte mobile
3			
439	Il segnale n.32		
		X	<p>Presegnala la possibilità di un improvviso abbagliamento dovuto ad aeromobili a bassa quota</p>
1			Vieta l'accesso negli aeroporti
2			Presegnala un insieme pericoloso di incroci stradali
3			
440	Il segnale n. 37		
			<p>Impone di arrestarsi perché il transito è vietato</p>
1			Obbliga ad arrestarsi soltanto in caso di incrocio con altri veicoli
2			

N.	DOMANDA	N.	RISPOSTA
		X	3 Obbliga a fermarsi all'incrocio in corrispondenza della striscia trasversale di arresto
441	Il segnale n. 37		1 Viene posto nella strada che gode del diritto di precedenza
		X	2 E' utilizzato nelle intersezioni di particolare pericolosità
			3 Obbliga ad arrestarsi al varco doganale
442	Il segnale n. 37		1 Indica l'obbligo di arresto ad un posto di blocco istituito dagli organi di polizia
			2 Prescrive l'obbligo di fermarsi e di dare la precedenza nei sensi unici alternati
		X	3 Si può trovare all'incrocio con una strada che gode del diritto di precedenza
443	Il segnale n. 37		1 E' posto di norma 150 metri prima dello incrocio
			2 Obbliga ad arrestarsi per dare la precedenza solo ai veicoli provenienti da destra
		X	3 Obbliga ad arrestarsi in ogni caso in corrispondenza dell'incrocio e dare la precedenza
444	Il segnale n. 40	X	1 Prescrive di procedere a velocità particolarmente moderata
			2 Può precedere il segnale di STOP
			3 Si trova, di norma, a non più di 50 m dall'incrocio
445	Il segnale n.40		1 Può presegnalare un passaggio a livello custodito con barriere
			2 Può precedere il segnale DARE PRECEDENZA
		X	3 Presegnala un incrocio in cui vige la regola generale di dare la precedenza a destra
446	Il segnale n. 41		1 Indica il diritto di precedenza nei sensi unici alternati
		X	2 Impone, nelle strettoie, di dare precedenza i veicoli provenienti dal senso opposto







N.	DOMANDA	N.	RISPOSTA
			Su una carreggiata a senso unico, indica l'inizio del doppio senso di circolazione
447	Il segnale n. 42 	X	<p>1 Può essere seguito dal segnale di FERMARSI E DARE PRECEDENZA</p> <p>2 Impone l'arresto all'incrocio</p> <p>3 Indica l'andamento della strada principale</p>
448	Il segnale n. 43a 	X	<p>1 Indica che bisogna rallentare per accertare che ci venga data la precedenza</p> <p>2 Indica incrocio con precedenza rispetto ai soli veicoli provenienti da sinistra</p> <p>3 E' posto sulle autostrade</p>
449	Il segnale n.43d 	X	<p>1 Indica che abbiamo precedenza sui veicoli che si immettono da destra</p> <p>2 Viene posto su strada secondaria che non gode del diritto di precedenza</p> <p>3 Può precedere il segnale di dare precedenza</p>
450	Il segnale n. 46 	X	<p>1 Preavvisa una strada a senso unico</p> <p>2 Consente l'accesso ai ciclisti</p> <p>3 Consente il transito dei pedoni</p>
451	Il segnale n. 47 	X	<p>1 Permette la circolazione a senso unico</p> <p>2 E' posto su una carreggiata a doppio senso di circolazione</p> <p>3 Vieta la sosta, ma non la fermata</p>
452	Il segnale n. 48 	X	<p>1 Consente ad un'autovettura di sorpassare un motociclo</p> <p>2 Consente la marcia di autovetture per file parallele</p> <p>3 Vieta il sorpasso tra autovetture solo se deve essere valicata la linea continua</p>
453	Il segnale n. 48 	X	<p>1 Vieta il sorpasso fra autoveicoli anche se la manovra può compiersi entro la semicarreggiata</p>

N.	DOMANDA	N.	RISPOSTA
		2	Indica che la corsia di destra è riservata ai veicoli lenti
		3	Si trova solo sulle strade extraurbane
454	In presenza del segnale di DIVIETO DI SORPASSO (fig.48), si possono sorpassare		
	 X	1	I calessi a due ruote
		2	I carrelli
		3	I veicoli a motore che procedono troppo lentamente
455	In presenza del segnale di DIVIETO DI SORPASSO (fig.48), si possono sorpassare		
	 X	1	I veicoli sprovvisti di motore
		2	I quadricicli a motore
		3	Le macchine agricole
456	Il segnale n. 49		
	 X		Obbliga i veicoli a marciare a meno di 70 metri di distanza l'uno dall'altro
		1	di 70 metri di distanza l'uno dall'altro
		2	Prescrive di accostarsi al veicolo che precede lasciando libero uno spazio inferiore a 70 m
		3	Vieta di seguire il veicolo che precede a una distanza inferiore a quella indicata
457	Il segnale n.49		
	 X	1	Obbliga a rispettare il distanziamento minimo indicato
		2	Preavvisa che a 70 metri inizia il divieto di transito per le autovetture
		3	Obbliga un veicolo a distanziare quello che lo segue di almeno 70 metri
458	Il segnale n.51		
	 X	1	Indica un divieto che può non essere osservato da chi trasporta feriti o ammalati gravi
		2	Prescrive l'obbligo di arresto all'incrocio su strade di montagna con autobus di linea
		3	Obbliga ad usare il clacson ogni qualvolta le circostanze lo consigliano
459	Il segnale n.52		

N.	DOMANDA	N.	RISPOSTA
	X	1	E' un divieto di sorpasso per i veicoli superiori a 3,5 ton. non destinati al trasporto di persone
		2	Consente ad un autocarro di massa a pieno carico superiore a 3,5 ton. di sorpassare un motociclo
		3	Vieta ad un autobus di 12 ton. di sorpassare un autotreno
460 Il segnale n.52		X	1
		Consente ad un autocarro di massa complessiva pari a 3,5 ton. di sorpassare un autoarticolato	2
		Consente alle autovetture di sorpassare gli autocarri sulla corsia di destra	3
		Fa riferimento alla massa del veicolo comprensiva del carico effettivamente trasportato	
461 Il segnale n.53		X	1
		Nei centri abitati vige dalle ore 8 alle 20	2
		Consente il transito ai veicoli a trazione animale muniti di pneumatici	3
		Vieta la circolazione alle carrozze a cavalli	
462 Il segnale n.54		X	1
		Vieta il transito ai pedoni	2
		Obbliga a dare la precedenza ai pedoni	3
		Indica un'area urbana riservata a parco giochi e divertimenti	
463 Il segnale n.55		X	1
		Vieta il transito ai motocicli	2
		Consente il transito delle biciclette nelle ore notturne	3
		Consente il transito ai quadricicli a motore	
464 Il segnale n.56		X	1
		E' un divieto di circolazione per motociclisti	2
		Consente il transito ai motociclisti con il casco	3
		Si riferisce ai soli motocicli di cilindrata superiore ai 125 cm3	
465 Il segnale n. 57			1
		Vieta il transito di veicoli a trazione animale	

N.	DOMANDA	N.	RISPOSTA
		X	<p>2 Impone il divieto di transito ai conducenti di veicoli a braccia</p> <p>3 Vale solo durante le ore di mercato</p>
466	Il segnale n. 58		
		X	<p>1 Vieta il transito alle motocarrozzette</p> <p>2 Non si applica ai taxi</p> <p>3 vieta il transito alle sole autovetture</p>
467	Il nuovo segnale n. 58		
		X	<p>1 Vieta il transito a tutti gli autoveicoli</p> <p>2 Consente il transito agli autocarri</p> <p>3 Permette il transito a tutti i motoveicoli</p>
468	Il segnale n. 59		
		X	<p>1 Indica il divieto di transito agli autobus</p> <p>2 Consente il transito ai pullman turistici</p> <p>3 Consente il transito agli scuolabus</p>
469	Il segnale n.60a		
		X	<p>Vieta il transito ai veicoli merci con massa a pieno carico superiore a 3,5 ton.</p> <p>1</p> <p>Consente il transito ad un autocarro con tara di 3 ton. e portata di 2 ton. che viaggia scarico</p> <p>2</p> <p>Vieta il transito ai veicoli di massa superiore a 3,5 ton. destinati al trasporto di persone</p> <p>3</p>
470	Il segnale n.60a		
		X	<p>Vieta il transito a tutti gli autocarri carrozzati con furgone chiuso</p> <p>1</p> <p>Può essere munito di pannello integrativo con un diverso valore nella massa consentita al transito</p> <p>2</p> <p>Consente il transito a tutti gli autocarri carrozzati con cassettone aperto</p> <p>3</p>
471	Il segnale n.60b		
		X	<p>Indica la massa complessiva consentita al transito degli autoveicoli per trasporto di cose</p> <p>1</p> <p>Vieta il transito di autobus di massa complessiva superiore a 10 ton.</p> <p>2</p>

N.	DOMANDA	N.	RISPOSTA
			Consente il transito di un autocarro da 4 ton. che traina un rimorchio da 4 ton.
472	Il segnale n.65 		<p>Indica la distanza minima di sicurezza tra due autoveicoli in transito su quella strada</p> <p>Non si riferisce ai veicoli a trazione animale</p> <p>Si riferisce ai veicoli anche se sprovvisti di motore</p>
		X	
473	Il segnale n.68 		<p>Vieta il transito ai veicoli aventi una massa superiore a quella indicata</p> <p>Nei centri abitati vale solo dalle ore 8 alle ore 22</p> <p>Vieta il transito ai veicoli aventi sull'asse più caricato una massa superiore a quella indicata</p>
		X	
474	Il segnale n.69 		<p>Obbliga i veicoli aventi massa per asse superiore a 6,5 ton. a procedere a passo d'uomo</p> <p>Vieta il transito ai veicoli aventi una massa per asse superiore a 6,5 ton.</p> <p>Vale solo per autoveicoli con ruote gemellate</p>
		X	
475	Il segnale n.70 		<p>Indica la fine delle prescrizioni precedentemente imposte</p> <p>Può indicare la fine di un cantiere di lavoro</p> <p>Può indicare la fine di un centro abitato</p>
		X	
476	Il segnale n.71 		<p>Indica la fine del limite massimo di velocità</p> <p>Vieta il transito ai veicoli che superano la velocità di 50 km/h</p> <p>Indica la fine dell'obbligo di mantenere una distanza di sicurezza di almeno 50 metri</p>
		X	
477	Il segnale n. 74 		<p>Vieta la sosta, ma non la fermata</p> <p>Indica che la sosta è regolamentata mediante disco orario</p>
		X	

N.	DOMANDA	N.	RISPOSTA
			Nei centri urbani prescrive il divieto di sosta dalle ore 22 alle ore 8, salvo diversa indicazione
478	Il segnale n. 74 	X	<p>1 Consente la sosta soltanto ai veicoli a due ruote</p> <p>2 Con pannello integrativo può vietare la sosta solo in alcuni giorni della settimana</p> <p>3 Consente la sosta a veicoli della polizia, purché non rechi pericolo o intralcio alla circolazione</p>
479	Il segnale n. 74 	X	<p>1 Indica che la sosta è regolamentata mediante disco orario</p> <p>2 Nelle strade extraurbane, consente la sosta dopo le ore 20</p> <p>3 Lungo strade extraurbane indica divieto permanente di sosta in assenza di indicazioni integrative</p>
480	Il segnale n. 75 	X	<p>1 Vieta la fermata, ma consente la sosta</p> <p>2 In assenza di iscrizioni integrative il divieto è permanente</p> <p>3 E' un preavviso di divieto di sosta</p>
481	Il segnale n.75 	X	<p>1 Vieta la fermata nel tratto precedente, se integrato con pannello con freccia verso il basso</p> <p>2 Vale solo nei giorni feriali, salvo diversa indicazione</p> <p>3 Consente la fermata del veicolo per la salita e la discesa dei passeggeri</p>
482	Il segnale n. 78 	X	<p>1 Vieta la sosta nel luogo dove è posto</p> <p>2 Vale solo nelle ore diurne</p> <p>3 Vale solo nelle ore notturne</p>
483	Il segnale n.80a 	X	<p>1 Indica l'inizio del senso unico di circolazione</p> <p>2 Indica la fine del doppio senso di circolazione</p> <p>3 Non consente la svolta a sinistra</p>
484	Il segnale n. 80e		

N.	DOMANDA	N.	RISPOSTA
		X	<p>1 Preavvisa che non è consentito proseguire dritto</p> <p>2 Preavvisa un senso unico</p> <p>3 E' un segnale di indicazione</p>
485	Il segnale n.81a		<p>Indica la facoltà di passare a destra o a sinistra di un'isola spartitraffico</p> <p>1</p> <p>Indica il passaggio consentito alla destra ed alla sinistra di un ostacolo</p> <p>2</p> <p>X 3 E' un segnale di prescrizione</p>
486	Il segnale n. 81a		<p>Indica l'impossibilità di proseguire dritto</p> <p>1</p> <p>Indica di disporsi su due file per proseguire dritto</p> <p>2</p> <p>Indica l'inizio della circolazione per file parallele</p> <p>3</p>
487	Il segnale n.81c		<p>1 E' un segnale di divieto</p> <p>2 Preavvisa un prossimo semaforo con svolta a sinistra consentita</p> <p>3 Si trova anche fuori dei centri abitati</p>
488	Il segnale n. 81c significa		<p>1 Che non è consentito svoltare a destra</p> <p>2 Che è obbligatorio svoltare unicamente a sinistra</p> <p>3 Che si sta incrociando una biforcazione pericolosa</p>
489	Il segnale n. 82a		<p>1 Obbligo di svoltare a sinistra</p> <p>2 Passaggio obbligatorio a sinistra</p> <p>3 Che bisogna superare il salvagente lasciandolo alla propria sinistra</p>
490	Il segnale n. 85		<p>1 Prescrive un limite minimo di velocità</p> <p>2 Indica il divieto di transito ai veicoli con massa complessiva superiore a 30 t</p> <p>3 vieta il transito ai veicoli che circolano a velocità superiore a quella indicata</p>
491	Il segnale n. 92a		

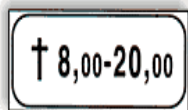
N.	DOMANDA	N.	RISPOSTA
		X	<p>1 Indica un percorso promiscuo pedonale e ciclabile</p> <p>2 Indica un percorso ciclabile affiancato ad un percorso pedonale</p> <p>3 Indica l'obbligo di parcheggiare la bicicletta e proseguire a piedi</p>
492	Il segnale n.93a		
		X	<p>1 Indica la fine del percorso promiscuo pedonale e ciclabile</p> <p>2 Indica la fine dell'area riservata promiscuamente ai pedoni ed ai velocipedi</p> <p>3 Indica la fine della pista ciclabile affiancata al marciapiede</p>
493	Il segnale n.98		
		X	<p>1 Segnala una stazione autostradale alla quale è obbligatorio fermarsi</p> <p>2 Situato a distanza opportuna dal posto di blocco, è ripetuto all'altezza del punto di arresto</p> <p>3 Impone di fermarsi e dare precedenza ai mezzi della polizia</p>
494	Il segnale n.99		
		X	<p>1 Segnala la presenza di un comando stazione carabinieri, con posto di blocco</p> <p>2 Obbliga ad arrestarsi all'accesso autostradale</p> <p>3 Vieta la circolazione a tutti i veicoli nell'area della stazione ferroviaria</p>
495	Il segnale n.311		
		X	<p>1 Non vieta la sosta dei veicoli nella strada a destra</p> <p>2 Vieta la manovra di inversione di marcia sulla strada laterale</p> <p>3 Presegnala i lavori in corso in fondo alla strada a destra</p>
496	Il segnale n. 312		
		X	<p>1 Obbliga a mantenere una velocità non inferiore a 60 km/h</p> <p>2 Indica la velocità che si consiglia di non superare in condizioni ottimali di traffico</p> <p>3 Vieta la circolazione ai veicoli che sviluppano una velocità massima inferiore a quella indicata</p>

497 Il segnale n. 316

N.	DOMANDA	N.	RISPOSTA
		<p>1 Ricorda il divieto di sorpasso tra veicoli</p> <p>2 Ricorda di spegnere il motore in caso di arresto prolungato in galleria</p> <p>3 Consente l'inversione di marcia solo se la galleria è a doppio senso di circolazione</p>	
498	<p>Il segnale n. 375 indica</p> 	<p>X</p> <p>1 L'area delimitata riservata al posteggio dei taxi</p> <p>2 Autorimessa riservata ai taxi</p> <p>3 Una corsia di marcia riservata ai taxi</p>	
499	<p>Il segnale n. 375 indica</p> 	<p>X</p> <p>1 La presenza nelle vicinanze di un telefono per chiamata taxi</p> <p>2 Un parcheggio riservato ad autovetture in servizio pubblico</p> <p>3 Che la vettura su cui è posto è in servizio pubblico</p>	
500	<p>Il segnale mod.II 6a</p> 	<p>X</p> <p>1 Preavvisa la presenza di un'isola pedonale dipinta sulla pavimentazione</p> <p>2 Preavvisa un restringimento della carreggiata segnalato con segni orizzontali</p> <p>3 Preavvisa della temporanea mancanza della segnaletica orizzontale</p>	
501	<p>Il pannello integrativo mod.II 6b</p> 	<p>X</p> <p>1 Indica il rallentamento della circolazione dovuto ad incidente</p> <p>2 Indica il punto ove è posta la chiamata d'emergenza SOS</p> <p>3 Preavvisa la presenza di un deposito per veicoli incidentati</p>	
502	<p>Il pannello integrativo mod.II 6e può indicare</p> 	<p>X</p> <p>1 Una strada presso un canale che, in caso di pioggia intensa, può straripare allagando la strada</p> <p>2 La denominazione di un fiume in corrispondenza di un ponte che lo attraversa</p> <p>3 Una strada a tre corsie con una serie di curve in progressione</p>	

N.	DOMANDA	N.	RISPOSTA
----	---------	----	----------

Il pannello integrativo mod.II 3c posto
503 sotto al divieto di sosta:



- | | |
|---|---|
| X | <p>1 Indica che la sosta è vietata in prossimità di una chiesa</p> <p>2 Indica che la sosta è consentita dalle 8,00 alle 20,00 vicino ad una chiesa</p> <p>3 Vieta la sosta nei giorni festivi dalle 8,00 alle 20,00</p> |
|---|---|

504 Un parcheggio autorizzato

- | | |
|---|---|
| X | <p>1 E' delimitato da strisce verdi qualora sia custodito giorno e notte</p> <p>2 Non consente la sosta ai privati se delimitato da strisce azzurre</p> <p>3 E' delimitato da strisce gialle qualora sia riservato ai taxi</p> |
|---|---|

505 Un parcheggio autorizzato

- | | |
|---|--|
| X | <p>1 E' delimitato da strisce gialle, se a pagamento</p> <p>2 Comporta il dovere di parcheggiare il veicolo negli appositi spazi segnati</p> <p>3 Se delimitato da strisce azzurre consente la sosta solo ai taxi</p> |
|---|--|